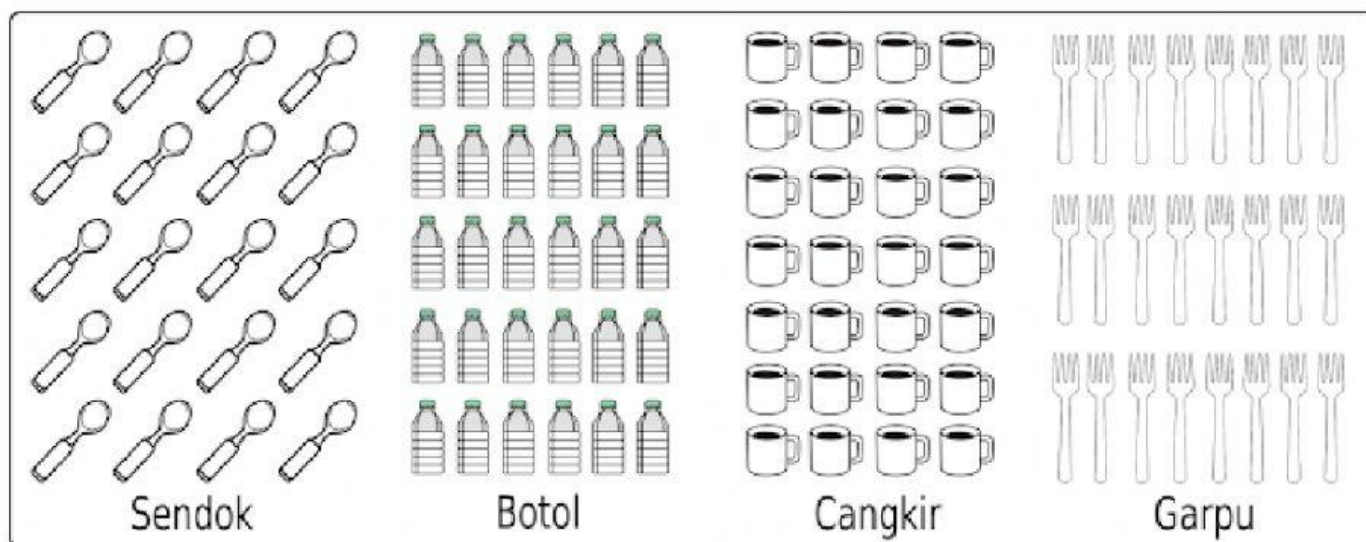
	<b>UNIT ASSESMENT MATEMATIKA</b> <b>ACADEMIC YEAR 2021/2022</b>	
	Subject : Matematika	Name :
	Primary : 1	Day/ Date :

**I. Pilihlah pada huruf a, b, c atau d di depan jawaban yang menurut siswa/i paling benar !**



- Bobi memelihara ikan. Ikan Bobi berjumlah empat puluh tiga.  
Lambang bilangan dari empat puluh tiga adalah .....  
a. 34      c. 44  
b. 43      d. 33
- Berikut adalah urutan Bilangan Bulat, yaitu Bilangan 50, 51, ..... ,53  
Urutan bilangan yang tepat pada titik-titik tersebut adalah .....  
a. 54      c. 52  
b. 55      d. 49
- Pada bilangan 63, angka 6 menempati nilai tempat .....  
a. Ratusan      c. Satuan  
b. Ribuan      d. Puluhan
- Randi mempunyai 73 buah pensil warna.  
Pada bilangan 3 menempati nilai tempat .....  
a. Satuan      c. Ribuan  
b. Puluhan      d. Ratusan
- Penulisan bentuk panjang dari bilangan 86 adalah .....  
a. Delapan puluh enam      c. Delapan ribu enam  
b. Delapan ratus enam      d. Delapan puluh ribu enam





**PERHATIKAN GAMBAR DIATAS INI UNTUK MENJAWAB SOAL NOMOR 6 - 10**

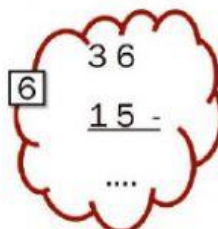
6. Jumlah Sendok pada gambar diatas adalah .....
  - a. 23                      c. 21
  - b. 22                      d. 20
7. Jumlah Garpu pada gambar diatas adalah .....
  - a. 24                      c. 26
  - b. 25                      d. 27
8. Jumlah Cangkir pada gambar diatas adalah .....
  - a. 27                      c. 29
  - b. 28                      d. 30
9. Jumlah benda paling sedikit pada gambar diatas adalah .....
  - a. Sendok                      c. Cangkir
  - b. Garpu                      d. Botol
10. Jumlah benda paling banyak pada gambar diatas adalah .....
  - a. Botol                      c. Sendok
  - b. Cangkir                      d. Garpu

II. Isilah Pertanyaan dibawah ini dengan isian singkat yang menurut kamu benar !

1.  +  =

2.  +  =

3. 
$$\begin{array}{r} 23 \\ 15 \\ \hline \end{array} +$$
   

4. 
$$\begin{array}{r} 32 \\ 65 \\ \hline \end{array} +$$
   

7. Hasil dari penjumlahan 28 dengan 50 adalah

8. Ibu membeli 33 jeruk, Ibu juga membeli 55 apel.  
Berapa jumlah buah yang dibeli ibu?

9. Hasil dari pengurangan 58 dengan 22 adalah

10. Seorang pedagang memiliki persediaan 54 pensil, kemudian datang seorang ibu membeli pensil sebanyak 21 buah. Berapa jumlah pensil pedagang yang tersisa?