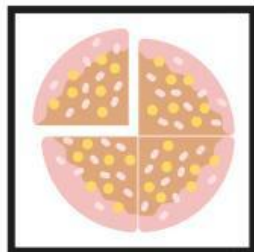


Lembar Kerja Peserta Didik

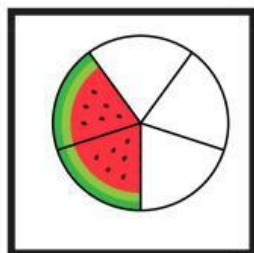

Nama :

Kelas :

Hubungkanlah gambar dengan pecahan yang sesuai!



$\frac{1}{2}$



$\frac{1}{4}$

