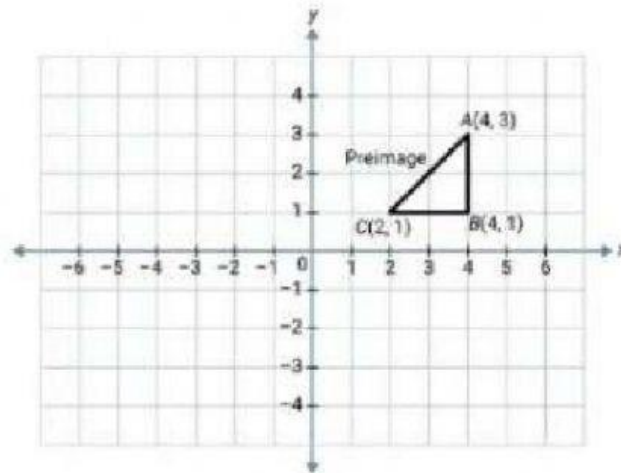


1., Melyik pont lesz a háromszög C pontjának tükörképe, ha az X tengelyre tükrözzük?



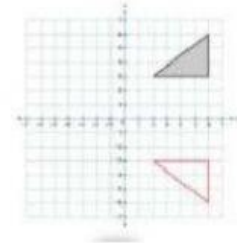
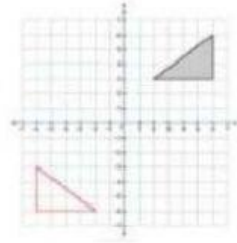
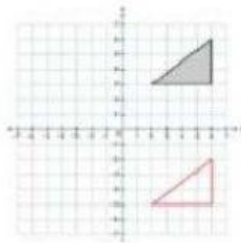
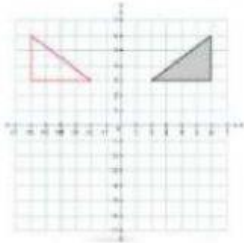
(2 ; 1)

(2 ; 0)

(-1 ; 2)

(2 ; -1)

2., Melyik ábra mutat tengelyes tükrözést ? (Több is lehet!)



3., Melyik pont lesz a (3 ; -4) pont képe, ha az origóra tükrözzük középpontosan?

(3 ; -4)

(-4 ; 3)

(-3 ; 4)

(-3 ; -4)

4., Ha egy szabályos sokszög középpontosan szimmetrikus, akkor csúcsainak száma mindig

páratlan

páros

5., Melyik ábra mutat X tengely irányú eltolást?

