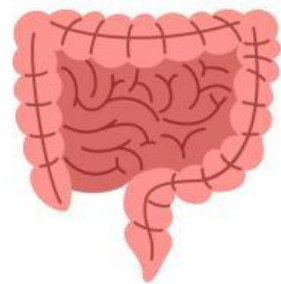
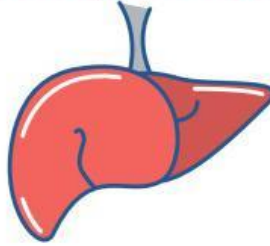


ANATOMÍA HUMANA

Conecta la imagen con el nombre correspondiente de cada parte del cuerpo






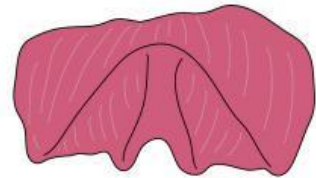
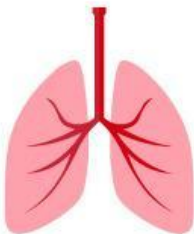
Corazón

Intestino

Riñón

Hígado

Selecciona el nombre correcto de cada órgano



Busca en la sopa de letra el nombre de los órganos que aparecen en las actividades anteriores

C	A	R	Q	W	E	R	T	Y	U	I	K
O	Q	I	E	S	T	O	M	A	G	O	P
R	E	Ñ	N	M	B	V	C	X	Z	A	D
A	R	O	I	O	R	B	E	R	E	C	P
Z	T	A	P	L	P	M	P	A	U	A	A
O	Y	M	H	K	O	N	I	E	M	H	N
N	U	N	B	I	I	B	Y	I	C	I	C
O	I	J	A	J	G	V	U	O	E	M	R
A	M	G	A	R	F	A	I	D	L	G	O
M	A	E	S	H	Y	C	D	I	U	A	Y
U	L	I	D	P	U	L	M	O	N	E	S
B	I	O	F	G	T	A	A	I	G	D	O