

writtten by Mrs. Falupi  
support by SDN Janti 2 Tulangan

# JELAJAH ANGKASA LUAR







# Mengenal Benda Langit



Nama :

**Simaklah Video Berikut Ini !**



**Jawablah Pertanyaan Berikut Berdasarkan Video !**

1. Waktu yang dibutuhkan bumi mengelilingi matahari adalah
2. Perputaran bumi pada porosnya mengakibatkan peristiwa
3. Waktu yang dibutuhkan bumi untuk berputar pada porosnya adalah
4. Akibat dari revolusi bumi adalah



**Let's do this!**



Gambar disamping merupakan planet

Manakah planet yang paling dekat dengan matahari ....



bumi



yupiter



saturnus



merkurius

☐

bumi

☐

Mars

☐

Saturnus

☐

Merkurius

Kami mendapat sebutan planet dalam.  
Jarak kami sangat dekat dengan pusat tata  
surya. Warna kami sangatlah beragam.  
Siapakah aku ?



# Let's Go!



Pasangkanlah dengan nama satelit yang tepat !

Mars



Miranda

Bumi



Demos & Fobos

Neptunus



Bulan

Uranus




Triton


Pilihlah Ciri Planet dan Letakkan Sesuai dengan Gambar dengan Tepat !



Merkurius



Neptunus



Saturnus



Venus




Planet yang berevolusi paling lama

Planet yang paling dekat matahari

Planet dengan julukan bintang kejora

Planet yang memiliki cincin



Let's  
PLAY!



Letakkanku  
Pada Orbitku !



# Solar System

