

# FICHA 3. Las horas en el reloj

Nombre \_\_\_\_\_ Fecha \_\_\_\_\_

Sara y Daniel miran su reloj cada cuarto de hora.  
Sara tiene un **reloj de agujas** y Daniel tiene un **reloj digital**.



Un cuarto de hora son 15 minutos.



Las 2 en punto.

Las 2 y cuarto.

Las 2 y media.

Las 3 menos cuarto.

Las 3 en punto.

Desde las 2 en punto hasta las 3 en punto, pasa 1 hora.

1 hora son 60 minutos.

Santillana



1

¿Qué hora marca cada reloj? Une.



Las cuatro en punto.

Las siete y media.

Las seis y cuarto.

Las dos menos cuarto.

Las cinco y cuarto.


Las once menos cuarto.




2 Escribe qué hora marca cada reloj.


3 Representa la misma hora en los dos relojes.

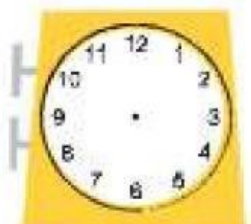


Las 10 y media.



Las 5 menos cuarto.



4 Completa para que los dos relojes marquen la misma hora.



5 ¿Cuántos minutos son? Completa.

Una hora ►  minutos.

Media hora ►  minutos.

Un cuarto de hora ►  minutos.

