

PENILAIAN TENGAH SEMESTER

Hari, tanggal : Kamis, 25 Februari 2021

Nama :

Mata Pelajaran : Tematik

Berbelanja Sayur



Makanan sehat adalah makanan bersih dan bergizi.

Makanan sehat yang harus adalah sayuran.

Hari ini nazuwa ingin memasak sayur sop.

Nazuwa akan membuat sayur sop.

Nazuwa membutuhkan sayur tomat, wortel, dan kol.

Harga tomat enam ribu rupiah.

Harga wortel tiga ribu rupiah.

Harga kol sepuluh ribu rupiah.

Nazuwa memiliki uang Rp 20.000,-

Ayo bantu Nazuwa menghitung belanjanya

Pilihlah pilihan jawaban A, B atau C yang menurut kalian paling tepat!

1. Apa judul bacaan di atas ?

- a. sayur sop*
- b. makanan sehat*
- c. berbelanja sayur*

2. Makanan sehat adalah

- a. 4 sehat 5 sempurna*
- b. bersih dan bergizi*
- c. enak dan bergizi*

3. Siapa yang belanja sayur di pasar?

- a. ibu nazuwa*
- b. adik Nazwa*
- c. Nazwa*

4. sayuran apa saja yang dibutuhkan nazuwa ?

- a. tomat, wortel dan kol*
- b. tomat, sosis dan kol*
- c. tomat, wortel dan sawi*

5. nazuwa akan memasak

- a. sayur asem*
- b. sayur lodeh*
- c. sayur sop*

hitunglah jumlah sayur yang akan dibeli Nazwa!






6. nazwa membeli sayur _____



$$... + ... + ... = ...$$

$$... \times ... = ...$$

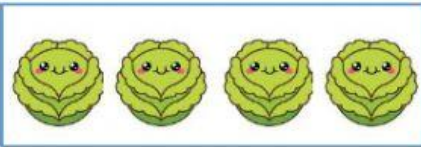
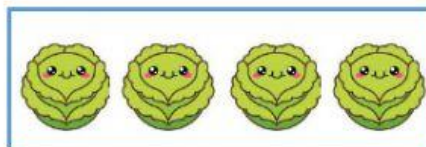
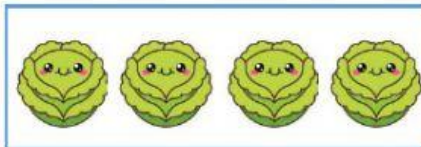
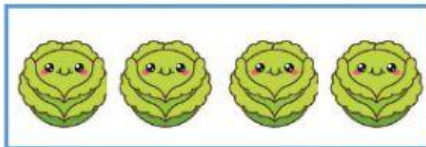
7. nazwa membeli sayur _____



$$... + ... + ... + ... + ... = ...$$

$$... \times ... = ...$$

8. nazwa membeli sayur _____



$$... + ... + ... + ... = ...$$

$$... \times ... = ...$$

9.



Rp 10.000

Rp _____ -

Rp

10.




Rp 10.000

Rp _____ -

Rp

11.



Rp 20.000

Rp _____ -

Rp

12.



Rp 20.000

Rp

Rp

Rp _____ -

Rp

13.



uang logam berikut bernilai _____

di uang logam terdapat burung _____

14. Bunyi sila Pancasila pertama adalah

- a. Ketuhanan yang Maha Esa
- b. Kemanusiaan yang adil dan beradab
- c. Persatuan Indonesia

15. Sila kedua Pancasila diwakili dengan symbol

a.



b.



c.



16.



•

•



17.

•



•

•



18.

•



•

•



19.

•



•

•



20.

•



•

•

