

ADUNAREA CU 1-5 UNITĂȚI

I.1. Scrie în căsuțe A (adevărat) pentru rezultatul corect și F (fals) pentru rezultatul incorect.

 +  = 5

 +  = 7

 +  = 8

I.2. Unește imaginea cu operația potrivită:




$3 + 4 = 7$

$5 + 4 = 9$


$2 + 2 = 4$

$3 + 5 = 8$

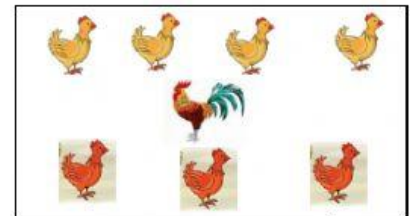
I.3. Colorează caseta cu răspunsul corect :



			3
4	+	2	= 6
			5




			10
5	+	5	= 9
			8

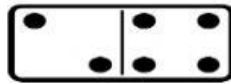


						5
4	+	1	+	3	= 8	
						7

I.4. Calculează punctele de pe piesele de domino și scrie rezultatul:



$6 + 3 = \square$





$2 + 4 = \square$






$2 + 2 + 5 = \square$

I.5. Mia, Maria și Nițu au puișori. Calculează câți puișori au copiii?



 +  = \square

 +  +  = \square

I.6. Veverița Rița a strâns alune pentru iarnă. Luni a strâns 4 alune, iar marți a strâns 5 alune. Câte alune are acum Rița?



--	--	--	--	--

Are acum



I.7. Compune o problemă după imaginea:



$$\square + \square = \square$$

