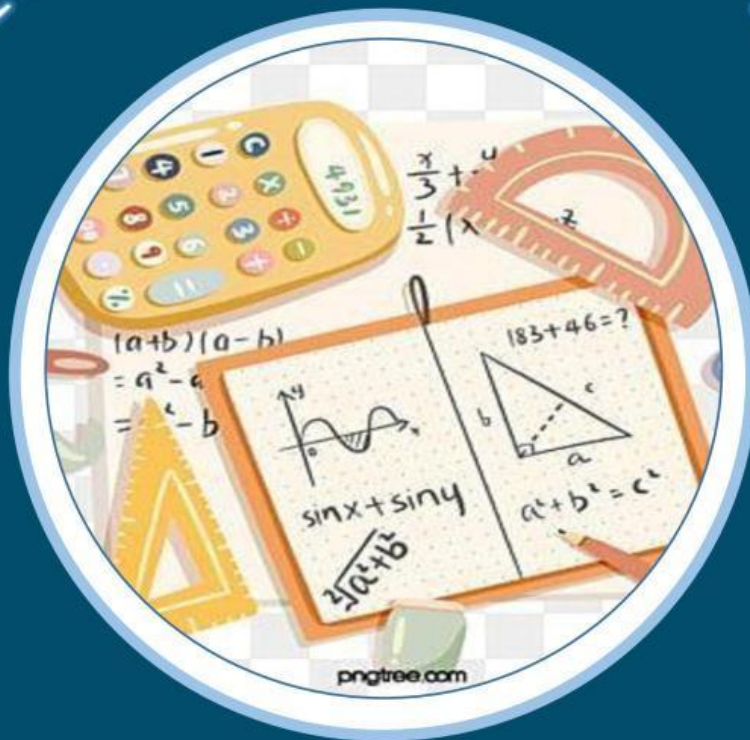


# LATIHAN MANDIRI 3



## SYARAT DAN SIFAT JAJARGENJANG

NAMA :

KELAS :

### Petunjuk Pengerjaan

- ❖ Berdoalah terlebih dahulu sebelum mengerjakan E-LKPD
- ❖ Isilah identitas anda terlebih dahulu
- ❖ Baca dan pahami dengan baik petunjuk E-LKPD
- ❖ Jawab dan isilah secara langsung pada kolom yang sudah disediakan
- ❖ Tanyakan kepada pendidik jika ada yang kurang jelas

### Mengevaluasi

- 1) Tuliskan definisi dari jajargenjang?

.....

.....

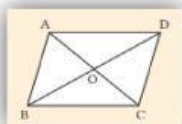
.....

### Membedakan

- 2) Dari kasus-kasus a , b , c , dan d berikut, kasus manakah yang mengakibatkan segi empat ABCD menjadi jajargenjang?
- $AD \parallel BC, AB = DC$
  - $AB \parallel DC, AB = DC$
  - $AO = CO, BO = DO$
  - $AO = BO, CO = DO$

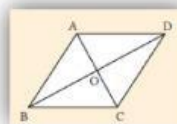
### Membedakan

- 3) Nyatakan pernyataan berikut dengan benar dan salah



Benar

Salah



Benar

Salah