

FICHA DE TRABAJO

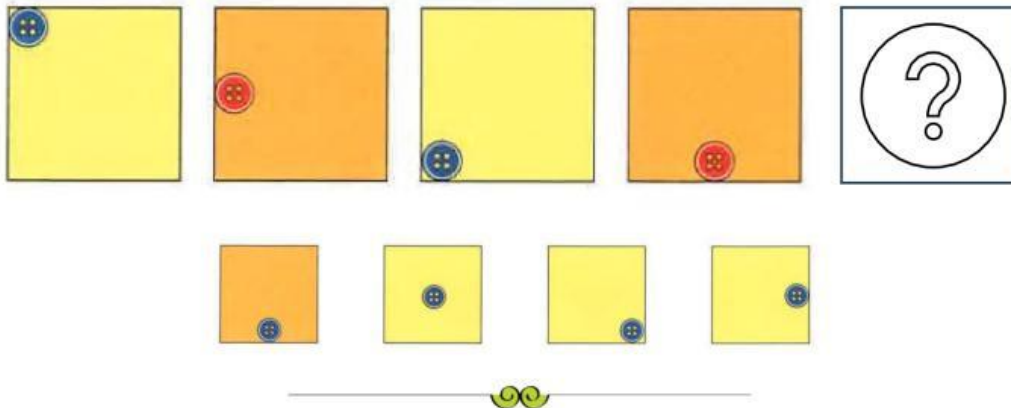
CEREBROS LOCOS:

ACTIVIDADES DE RAZONAMIENTO #1

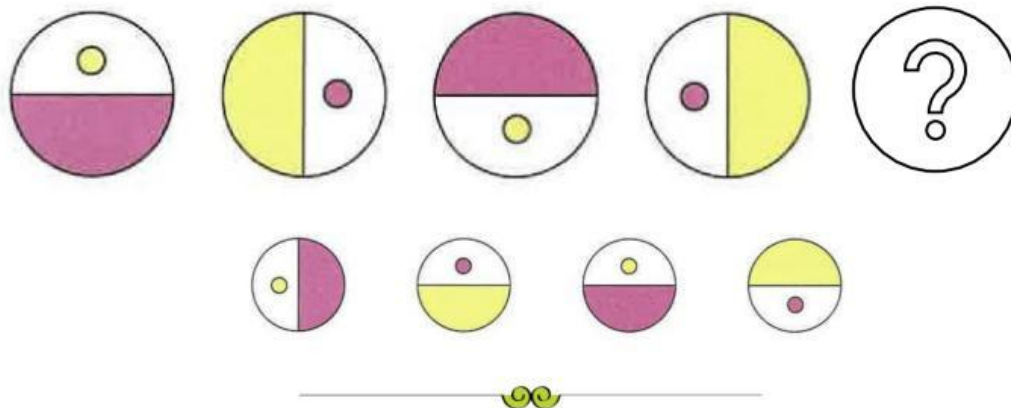


RESUELVE ESTA FICHA DE PENSAR Y RAZONAR SIN DESTROZAR TU CEREBRO Y VOLVERTE TARUMBA EN EL CAMINO. 

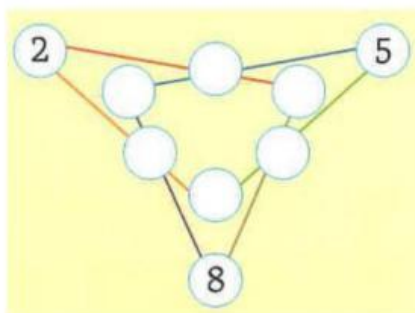
01 ▶ Arrastra la figura pequeña que continúa esta serie:



02 ▶ Arrastra la figura pequeña que continúa esta serie:



03 ▶ Distribuye y escribe en cada círculo los números del 0 al 8, de modo que la suma de cada línea sea igual a 12.



04 ▶ En una excavación arqueológica se encontró esta piedra con una suma. ¿Qué número corresponde a cada signo?

