


## ALKANON/KETON

### Petunjuk mengerjakan LKPD

1. Isi identitas nama dan kelas anda
2. Silahkan melihat video dan memahami materi yang ada
3. Kerjakan soal-soal dengan baik sehingga memperoleh hasil yang maksimal

Saksikan video pembelajaran berikut untuk memahami penamaan Alkanon/Keton:



Anda juga bisa membaca materi langsung dari **Website** dan **Pesan Suara** berikut :



Silahkan klik



Silahkan klik



# Evaluasi

## SINGLE CHOICE

A. Pilihlah jawaban yang paling benar !

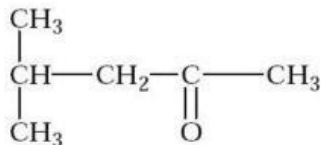
1. Wujud senyawa keton pada suhu kamar dengan jumlah atom C=4 adalah....

2. Senyawa Keton memiliki gugus karbonil yang bersifat polar yang mengakibatkan senyawa keton mudah larut dalam pelarut....

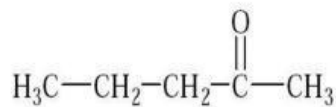
3. Cairan yang sering digunakan sebagai pembersih cat kuku, vernish dan bahan baku industri dalam pembuatan kloroform adalah....

## DRAG & DROP

B. Jodohkan gambar dan nama IUPAC keton berikut ini !



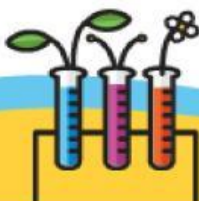

2 Oktanon




4 Metil 2 Pentanon

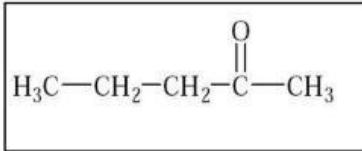



2 Pentanon

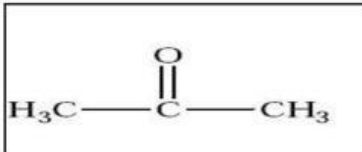


**JOIN**

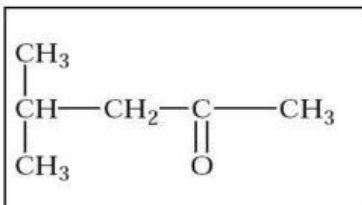
C. Jodohkan gambar dan nama TRIVIAL keton berikut ini !



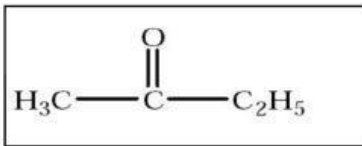
Iso butil metil keton



Etil metil keton



Dimetil keton



Metil propil keton

