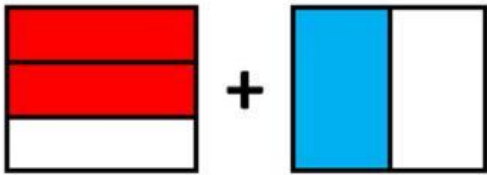
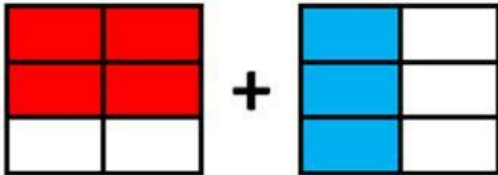

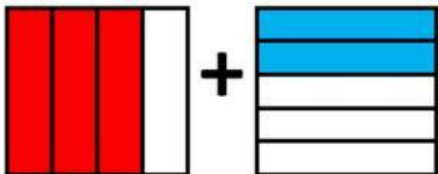
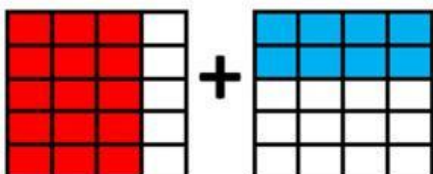



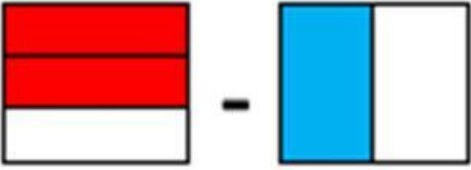
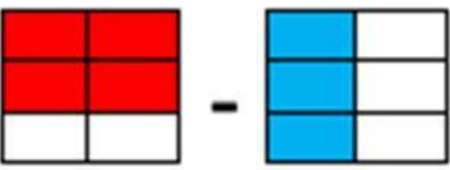

SUMA Y RESTA DE FRACCIONES.

NOMBRE: _____.


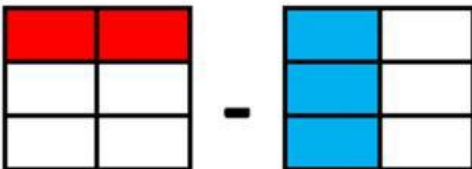
1. Realiza las siguientes sumas y restas de fracciones:

	OPERACIÓN A REALIZAR	PONEMOS EL MISMO DENOMINADOR (TROZOS DEL MISMO TAMAÑO)	RESULTADO
REPRESENTACIÓN			
NÚMEROS	$\frac{2}{3} + \frac{1}{2} =$	$\frac{\quad}{\quad} + \frac{\quad}{\quad} =$	$\frac{\quad}{\quad}$

	OPERACIÓN A REALIZAR	PONEMOS EL MISMO DENOMINADOR (TROZOS DEL MISMO TAMAÑO)	RESULTADO
REPRESENTACIÓN			
NÚMEROS	$\frac{3}{4} + \frac{2}{5} =$	$\frac{\quad}{\quad} + \frac{\quad}{\quad} =$	$\frac{\quad}{\quad}$

	OPERACIÓN A REALIZAR	PONEMOS EL MISMO DENOMINADOR (TROZOS DEL MISMO TAMAÑO)	RESULTADO
REPRESENTACIÓN			
NÚMEROS	$\frac{2}{3} - \frac{1}{2} =$	$\frac{\quad}{\quad} - \frac{\quad}{\quad} =$	$\frac{\quad}{\quad}$

	OPERACIÓN A REALIZAR	PONEMOS EL MISMO DENOMINADOR (TROZOS DEL MISMO TAMAÑO)	RESULTADO
REPRESENTACIÓN			
NÚMEROS	$\frac{3}{4} - \frac{2}{5} =$	$\frac{\quad}{\quad} - \frac{\quad}{\quad} =$	$\frac{\quad}{\quad}$

	OPERACIÓN A REALIZAR	PONEMOS EL MISMO DENOMINADOR (TROZOS DEL MISMO TAMAÑO)	RESULTADO
REPRESENTACIÓN			
NÚMEROS	$\frac{1}{3} - \frac{1}{2} =$	$\frac{\quad}{\quad} - \frac{\quad}{\quad} =$	$\frac{\quad}{\quad}$