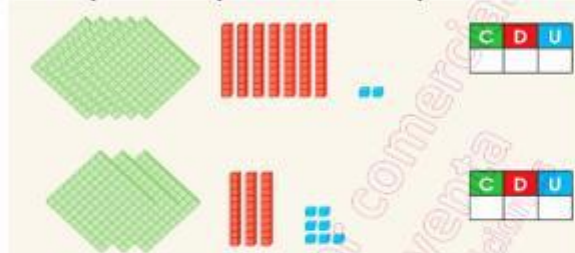




## EXAMEN DE MATEMATICAS - TERCER TRIMESTRE

NOMBRE: \_\_\_\_\_ GRADO: 3ro "A" FECHA: \_\_\_\_\_

1. Cuente y escriba el número que corresponde a cada representación.



2. Escribe de cuantas centenas, decenas y unidades se compone cada número, y el valor de cada número en unidades.

905 tiene \_\_\_\_\_ centenas \_\_\_\_\_ decenas \_\_\_\_\_ unidades

\_\_\_\_\_ + \_\_\_\_\_ + \_\_\_\_\_

670 tiene \_\_\_\_\_ centenas \_\_\_\_\_ decenas \_\_\_\_\_ unidades

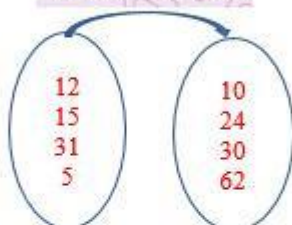
\_\_\_\_\_ + \_\_\_\_\_ + \_\_\_\_\_

3. Compara y escribe entre los números el signo que corresponda ( $>$ ,  $<$ ,  $=$ ).

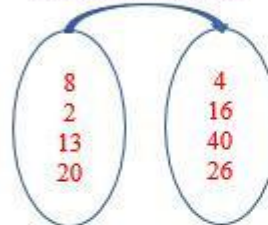
765	64	845	854	469	466
29	912	602	610	581	621
7	121	738	396	632	689
300	98	573	573	325	153

4. Une con líneas según corresponda a la condición que se le indica.

es el doble de



es la mitad de



5. Resuelva las siguientes sumas y restas.

C	D	U
3	4	8
5	4	5
+		

C	D	U
6	8	9
2	3	5
+		

C	D	U
4	5	5
2	3	7
-		
		8

C	D	U
6	6	6
5	7	8
-		

6. Contesta con un Sí o un No de acuerdo a tu criterio.

Las matemáticas son importantes para tu vida.