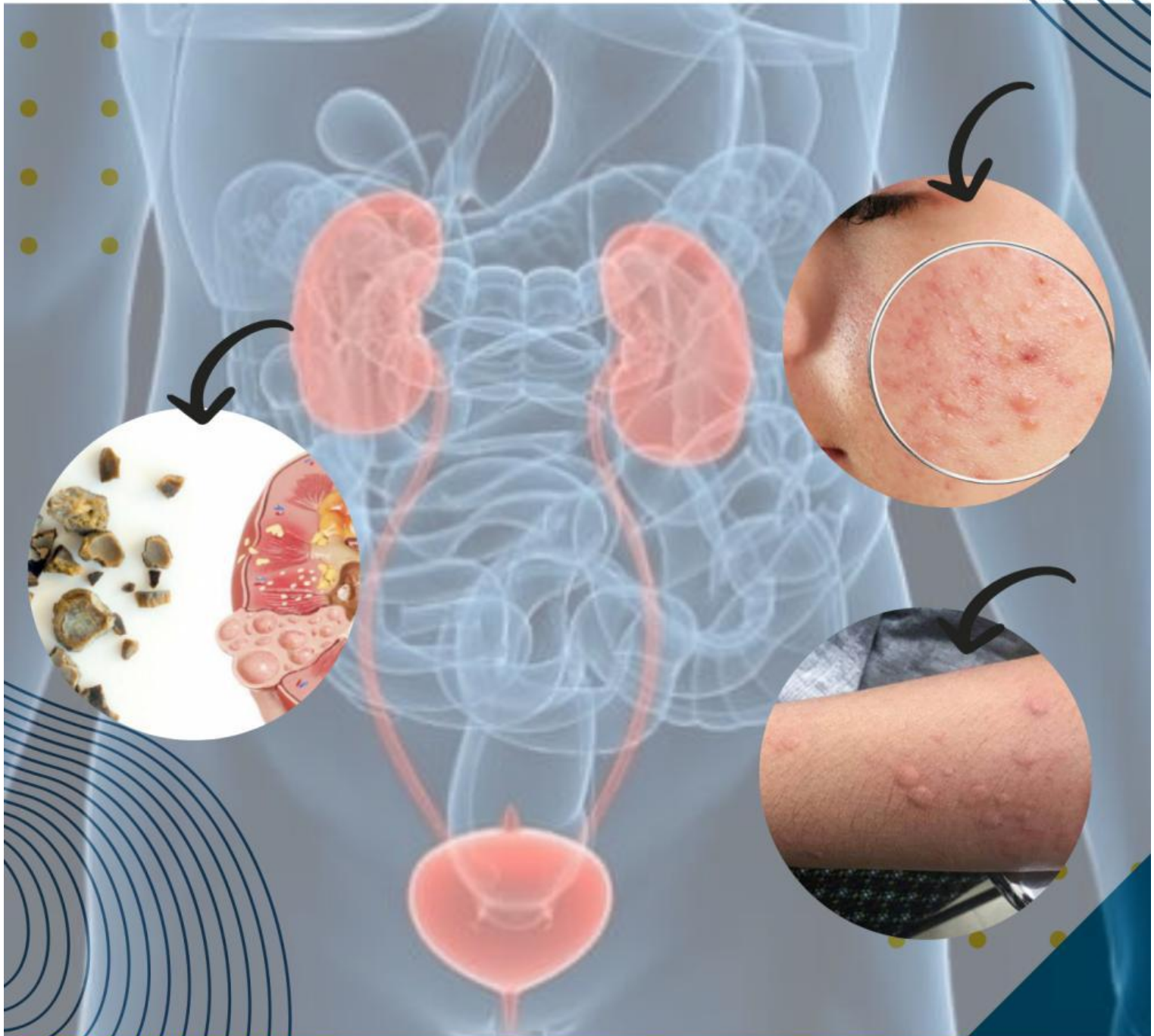




# Gangguan Sistem Ekskresi pada Manusia



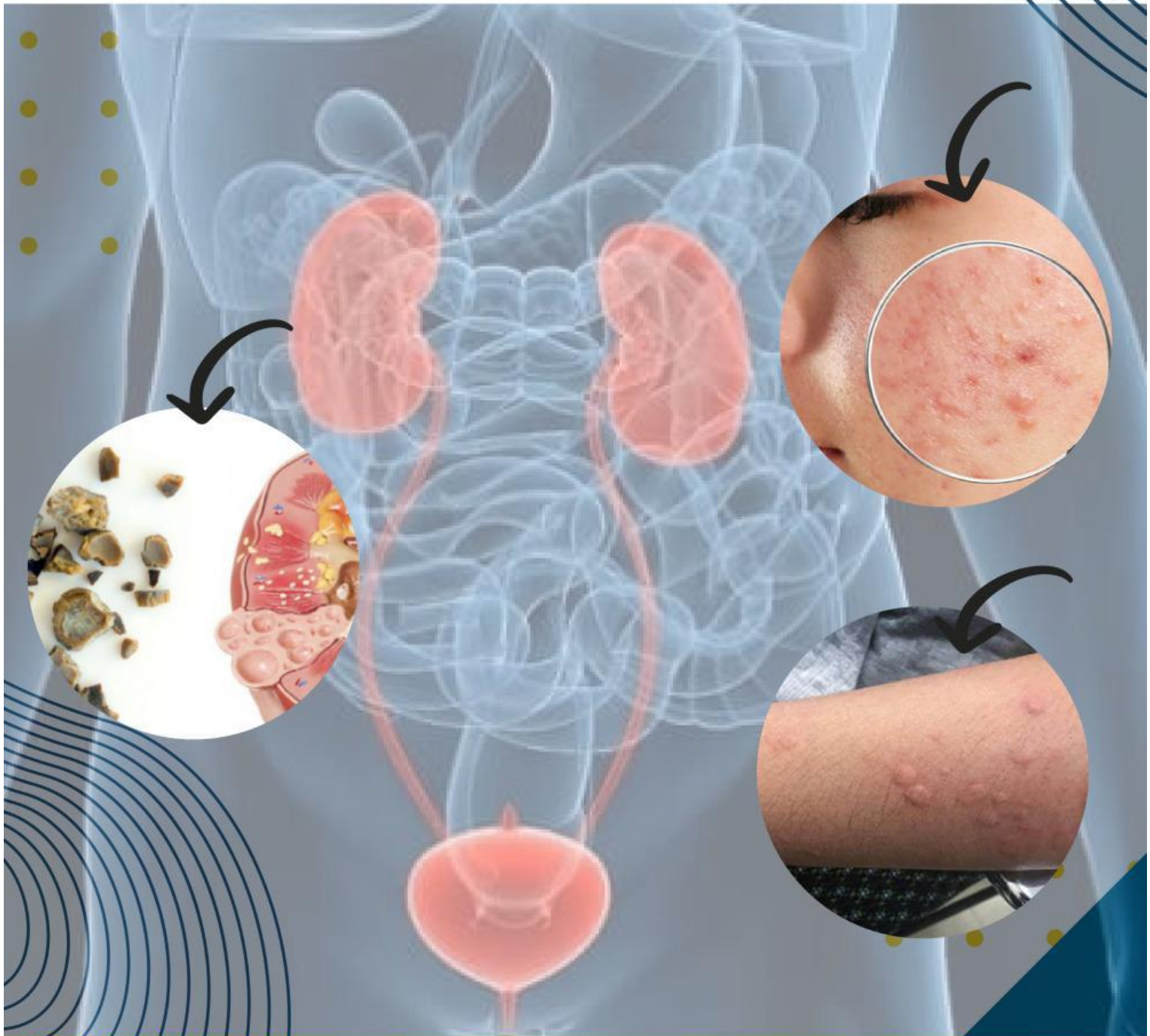
Untuk SMP/MTs

**VIII**

Semester 2




# Gangguan Sistem Ekskresi pada Manusia



Untuk SMP/MTs

**VIII**

Semester 2



Nama :  
Kelas :  
Kelompok :


## Tujuan Pembelajaran

1. Melalui LKPD, peserta didik dapat mengidentifikasi gangguan pada sistem ekskresi dengan tepat.
2. Melalui kegiatan diskusi, peserta didik dapat menjelaskan upaya menjaga kesehatan sistem ekskresi dengan tepat.

## Pengantar Materi

Bagaimana tubuh kalian ketika tidak makan? Setiap hari biasanya kita makan 3 kali sehari dengan berbagai macam makanan termasuk nutrisi yang ada di dalam makanan masuk ke tubuh kita. Makan merupakan salah satu kebiasaan hidup yang selalu kita lakukan dan tidak bisa ditinggalkan. Tanpa kalian sadari kalian makan tanpa memperhatikan pola hidup sehat. Apakah kalian telah melakukan pola hidup sehat? Bagaimana jika yang kalian lakukan adalah pola hidup yang kurang sehat, tentunya akan menyebabkan berbagai gangguan pada tubuh atau penyakit. Lalu bagaimana hubungan pola hidup dengan gangguan sistem ekskresi manusia.





## Tugas 1

Perhatikan tayangan video berikut ini!



1. Pada kasus tersebut sering kita temui di media sosial sebagai berita terhangat. Menurut kalian, apa saja penyebab dari penyakit tersebut?


Jawab :

2. Menurut pendapatmu, bagaimana upaya untuk mencegah penyakit gagal ginjal!

Jawab :

3. Jelaskan teknologi yang cocok untuk penyembuhan penyakit gagal ginjal!

Jawab :



## Tugas 2

Perhatikan tayangan video berikut ini!



1. Apa yang dimaksud dengan penyakit batu ginjal?


Jawab :

2. Apa saja penyebab dari penyakit batu ginjal?

Jawab :

3. Menurut Anda, bagaimana solusi untuk mengatasi penyakit batu ginjal?

Jawab :



### Tugas 3

Perhatikan tayangan video berikut ini!




1. Apa saja gejala yang menimbulkan penyakit infeksi saluran kemih (ISK)?

Jawab :

2. Menurut Anda, bagaimana upaya mencegah kesehatan sistem ekskresi dari penyakit infeksi saluran kemih (ISK)?

Jawab :



## Tugas 4

Perhatikan tayangan video berikut ini!



1. Apa saja penyebab timbulnya jerawat pada wajah seseorang?

Jawab :

2. Menurut Anda, bagaimana upaya mencegah timbulnya jerawat pada wajah!

Jawab :