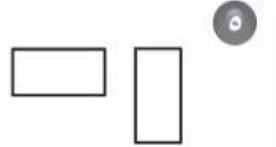
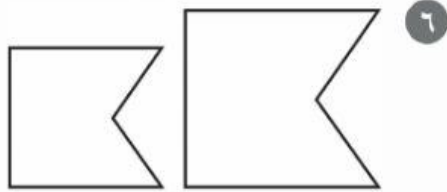
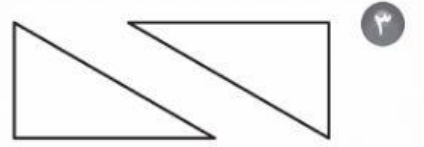
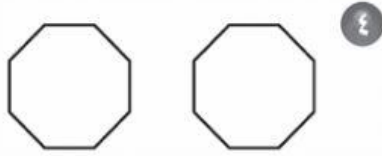
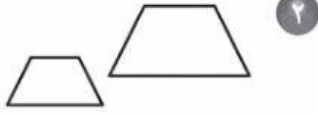




حدّد ما إذا كان كلُّ شكلين متطابقين أم لا (أجب بـ نعم أو لا):



مراجعة الدرس السابق

حدّد نوع التحويل الهندسيّ فيما يأتي (دوران ، انعكاس ، انسحاب) :

