



Kurikulum  
Merdeka



# LEMBAR KERJA PESERTA DIDIK ELEKTRONIK INFLASI

KELAS XI SMA

Nama :  
Kelas :  
No. Absen :



MIFTAKHUL ZANAH  
LIVEWORKSHEETS



## PETUNJUK Pengerjaan E-LKPD

- Bacalah dengan teliti pernyataan dan perintah yang terdapat di E-LKPD
- Jawablah pertanyaan-pertanyaan pada kolom yang sudah disediakan
- Setelah semua pertanyaan telah dijawab, klik **Finish** pada bagian bawah E-LKPD > klik **Email my answer to my teacher** > isi **Enter your full name** dengan nama lengkap kalian > isi **Group/level** dengan kelas kalian > isi **School subject** dengan “IPS” > isi **Enter your teacher email or key code** dengan “miftakulzanah34@gmail.com” > lalu klik **send**.
- Apabila terdapat pertanyaan, silahkan bertanya kepada guru yang sedang mengajar.



## KOMPETENSI DASAR

- 3.4 Menganalisis indeks harga dan inflasi.
- 4.4 Menyajikan hasil analisis indeks harga dan inflasi.



## INDIKATOR PEMBELAJARAN

- 3.4.4 Menjelaskan pengertian dan penyebab inflasi
- 3.4.5 Menjelaskan jenis-jenis inflasi
- 3.4.6 Mengidentifikasi cara mengatasi inflasi
- 3.4.7 Menganalisis penyebab dan dampak inflasi
- 3.4.8 Menganalisis informasi dan data-data yang diperoleh serta membuat kesimpulan tentang inflasi



## TUJUAN PEMBELAJARAN

- Setelah membaca dan mencari informasi siswa dapat memahami konsep dari inflasi,
- Melalui diskusi, tanya jawab, penugasan, presentasi dan analisis, siswa dapat menganalisis konsep inflasi dengan disiplin, dapat bekerja sama, meningkatkan rasa ingin tahu, serta bertanggung jawab atas tugas yang diberikan,
- Melalui diskusi peserta didik dapat menemukan permasalahan serta solusi akan dampak yang disebabkan oleh inflasi melalui berbagai sumber belajar


# MATERI PEMBELAJARAN




Sumber belajar :



BAGIAN 1



BAGIAN 2



Sumber : Youtube - Mengerti Ekonomi



# EVALUASI

## A. Pilihan Ganda

1. Pengertian inflasi adalah.....
  - a. Naiknya harga barang secara umum
  - b. Turunnya harga barang secara umum
  - c. Sistem pengendalian harga barang
  - d. Peningkatan produksi barang secara drastis
  - e. Pemerintah menaikkan pajak secara tiba-tiba
2. Inflasi disebabkan oleh beberapa faktor, kecuali.....
  - a. Naiknya permintaan barang
  - b. Turunnya produksi barang
  - c. Kenaikan tarif pajak
  - d. Tidak mengikuti perkembangan teknologi
  - e. Tidak stabilnya nilai tukar mata uang
3. Peningkatan jumlah uang yang beredar dalam masyarakat dapat menyebabkan terjadinya inflasi yang disebut sebagai...
  - a. Demand pull inflation
  - b. Cost push inflation
  - c. Money in circulation
  - d. Exported inflation
  - e. Domestic inflation
4. Kebijakan kebijakan yang dilakukan untuk mengatasi inflasi melalui peningkatan produksi dan jumlah barang di pasaran adalah...
  - a. Sistem perpajakan
  - b. Politik diskonto
  - c. Politik pasar terbuka
  - d. Pengendalian dan pengawasan harga
  - e. Politik anggaran
5. Harga sepatu di tahun 2022 dinilai sebesar Rp 500.000 sedangkan pada tahun 2023, harga sepatu naik menjadi Rp 550.000. Maka, berapa tingkat inflasi tahunan yang di alami pada tahun 2023 ?
  - a. 5 %
  - b. 35 %
  - c. 15%
  - d. 25 %
  - e. 10 %

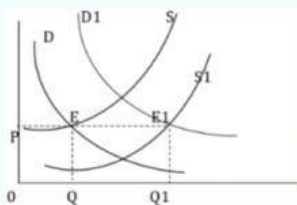
## EVALUASI

6. Berikut ini yang termasuk dalam sisi pengukuran inflasi adalah...
  - a. Permintaan harga
  - b. Tingkat harga secara umum
  - c. Permintaan barang
  - d. Kecepatan harga
  - e. Ketersediaan barang
7. Inflasi yang disebabkan oleh meningkatnya uang yang beredar dalam masyarakat disebut sebagai...
  - a. Inflasi dari dalam negeri
  - b. Inflasi dari luar negeri
  - c. Inflasi lunak
  - d. Inflasi cepat
  - e. Inflasi meroket
8. Kebijakan moneter yang dilakukan pemerintah dalam mengatasi inflasi adalah...
  - a. Politik diskonto
  - b. Pinjaman pemerintah
  - c. Sistem perpajakan
  - d. Pengendalian dan pengawasan harga
  - e. Pengawasan produksi barang
9. Dampak inflasi terhadap masyarakat yang berpenghasilan rendah adalah...
  - a. Memperlebar kesenjangan distribusi pendapatan
  - b. Tidak mendapatkan kredit dari bank
  - c. Memperoleh keuntungan dari harga yang naik
  - d. Terhambatnya pertumbuhan ekonomi
  - e. Mendapatkan pekerjaan yang lebih baik
10. Kebijakan non moneter dan non fiskal yang dapat dilakukan untuk mengatasi inflasi adalah...
  - a. Menetapkan kebijakan harga maksimum
  - b. Meningkatkan upah riil
  - c. Politik anggaran
  - d. Disiplin dalam pengadaan barang
  - e. Penyimpanan barang lebih banyak

## EVALUASI

11. Berikut yang bukan dampak dari inflasi adalah...
- Bagi masyarakat berpenghasilan tetap inflasi akan sangat merugikan karena menurunnya nilai uang
  - Menurunkan nilai ekspor karena harga barang ekspor menjadi lebih mahal di luar negeri
  - Minat orang untuk menabung semakin menurun
  - Mempersulit dalam menghitung harga pokok suatu produk
  - Menurunkan harga-harga sehingga konsumsi masyarakat bisa meningkat

12. Perhatikan Kurva berikut:



Berdasarkan kurva di samping diketahui bahwa kurva D bergeser ke D1 dan kurva S bergeser ke S1. Maka dapat disimpulkan bahwa ...

- Tidak terjadi inflasi karena jumlah permintaan diimbangi dengan jumlah penawaran
  - Telah terjadi inflasi yang disebabkan oleh peningkatan jumlah penawaran
  - Telah terjadi inflasi yang disebabkan oleh peningkatan jumlah permintaan
  - Tidak terjadi inflasi karena jumlah permintaan yang menurun
  - Tidak terjadi inflasi karena jumlah penawaran yang menurun
13. Negara A mencatat indeks harga sebesar Rp 122.50% di tahun 2021. Sedangkan pada bulan februari 2021 indeks harga yang tercatat sebesar 139,62 persen. Lalu negara A mencatat indeks harga Maret 2021 sebesar 150,40 %. Jadi, laju inflasi pada Maret 2021 di negara C sebesar
- 6,73 %
  - 6,68 %
  - 7,72 %
  - 7,91 %
  - 8,34 %



## EVALUASI

14. Kebijakan fiskal merupakan kebijakan yang berhubungan dengan ...
- Penerimaan dan pengeluaran pemerintah.
  - Pengendalian nilai tukar rupiah.
  - Jumlah uang yang beredar.
  - Penetapan suku bunga pinjaman.
  - Pengendalian harga.
15. Tabel jenis dan harga barang yang terjadi selama 3 tahun sebagai berikut :

| No | Jenis Barang | Harga Barang |       |      |
|----|--------------|--------------|-------|------|
|    |              | 2020         | 2021  | 2022 |
| 1  | Telur        | 6000         | 6500  | 7250 |
| 2  | Tepung       | 4000         | 4.300 | 4500 |
| 3  | Beras        | 5500         | 6000  | 6500 |

Tingkat inflasi tahun 2021 berdasarkan tingkat keparahannya apabila dihitung dengan indeks harga agregatif sederhana ( tahun 2020 ) adalah

- Inflasi sangat ringan
- Inflasi ringan
- Inflasi sedang
- Inflasi berat
- Hyper inflasi

## B. Essay

- Apa yang dimaksud dengan inflasi dan bagaimana rumus untuk menentukan laju inflasi ?



- Jelaskan penggolongan inflasi berdasarkan laju kecepatannya!

## EVALUASI

3. Bagaimana pengaruh inflasi terhadap perekonomian negara?

4. Siapa saja pihak yang dapat diuntungkan dan dirugikan dengan adanya inflasi

5. Apa saja kebijakan yang dapat dilakukan untuk mengatasi inflasi?