



ESCUELA DE EDUCACIÓN GENERAL BÁSICA
"MIGUEL VALVERDE"
Calles Miguel Valverde entre Francia y España.
Telef.: 2975-586
Correo electrónico: redmil@hotmail.com
Milagro-Guayas
Período lectivo 2022 – 2023



INSTRUMENTO DE EVALUACION CORRESPONDIENTE AL TERCER TRIMESTRE




Asignatura:	Educación Cultural y Artística				
Estudiante:					
A.E.G.B:	Séptimo	Paralelo:	"A y B"	Jornada:	Matutina.
Fecha:					
Docente:	Mgr. Tania Merino y Lic. Jinson Muñoz				

INDICACIONES GENERALES:

- Leer detenidamente cada ejercicio o pregunta con atención, reflexiona de acuerdo al desarrollo de proyectos.
- Escribir con letra clara y legible
- No realizar tachones, borrones ni manchones.
- Se utilizará una rúbrica de evaluación para las actividades relacionadas con la metacognición y autorregulación.

CALIFICACIÓN CUANTITATIVA:

INDICADOR DE EVALUACIÓN (mínimo 2)	EVALUACIÓN DE NIVELES DE LOGRO DE APRENDIZAJES	PUNTOS
Explora, describe y representa la propia imagen a través de distintos medios de expresión (gestual, gráfico, verbal, fotográfico, sonoro, etc.). REF.I.ECA.3.1.1.	1. Escoge entre las siguientes opciones la definición correcta de lo que es la fotografía.	1 punto
	A. Es el arte y la técnica de obtener imágenes duraderas debido a la acción de la luz. B. Es el arte y la técnica de borrar imágenes duraderas debido a la acción de la luz. C. Es el arte y la técnica de obtener imágenes pasajeras debido a la acción de la luz. D. Es el arte y la técnica de obtener imágenes duraderas debido a la acción del sonido.	
	2. Es un tipo de fotografía que se caracteriza por las composiciones limpias, minimalistas y geométricas.	1 punto
	A. Artística B. Documental C. Educativa D. Pasajera	
Participa activamente en la interpretación de bailes y canciones propios de algunas fiestas de especial relevancia para la comunidad. REF.I.ECA.3.6.2. 	3. La palabra villancico surge porque se llamaba _____ a los aldeanos de la villa: A. Villanus B. Vico C. Villamil D. Villana	1 punto
	4. Los villancicos se asocian con. A. El carnaval B. El día de las Madres C. Navidad D. El día de los difuntos	1 punto
	5. ¿Cuál es el nombre de un villancico? A. La gasolina B. Burrito sabanero C. Burrito reguetonero D. El baile de la silla	1 punto

Participa activamente en la en la interpretación de bailes y canciones propios de algunas fiestas de especial relevancia para la comunidad.REF.I.ECA.3.6.2 	<p>6. Lee la siguiente estrofa y escoge a qué villancico pertenece:</p> <p>Recogido tu rebaño A dónde vas pastorcito Voy a llevar al portal Requesón, manteca y vino.</p> <p>A. Burrito sabanero B. Noche de paz C. Campanas sobre campana D. Merry Christmas</p>	1 punto
Participa activamente en la en la interpretación de bailes y canciones propios de algunas fiestas de especial relevancia para la comunidad.REF.I.ECA.3.6.2 	<p>7. Escoge la fecha en que celebramos el día de Los Reyes Magos.</p> <p>A. 4 de enero B. 5 de enero C. 6 de enero D. 7 de enero</p>	1 punto
	<p>8. Los tres Reyes trajeron de regalo para Jesús:</p> <p>A. Oro, plata y caramelos. B. Oro, incienso y mirra. C. Oro, mirra y caramelos. D. Chocolates, oro y mirra.</p>	1 punto
	<p>9. Observa el dibujo de Los Tres Reyes Magos y coloréalos.</p> 	2 puntos

ELABORADO POR:	VALIDADO POR:	APROBADO POR:
DOCENTES: Mgtr. Tania Merino Lic. Jinson Muñoz	COORDINADOR: Lic. Xavier Coloma	SUBDIRECTORA (e): Lic. Verónica Toapanta Leal, Mgtr.
FIRMA:	FIRMA:	FIRMA:
FECHA:	FECHA:	FECHA: