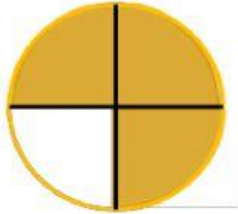


## FRACCIONES I


I.- RELACIONA AMBAS COLUMNAS DE ACUERDO CON LA FRACCIÓN. QUE REPRESENTA LA IMAGEN.



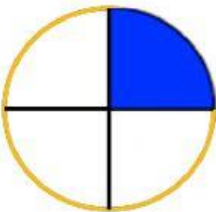
UN CUARTO



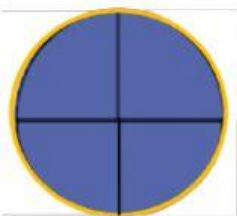
DOS CUARTOS



TRES CUARTOS



CUATRO CUARTOS



ENTERO SIN  
FRACCIONAR

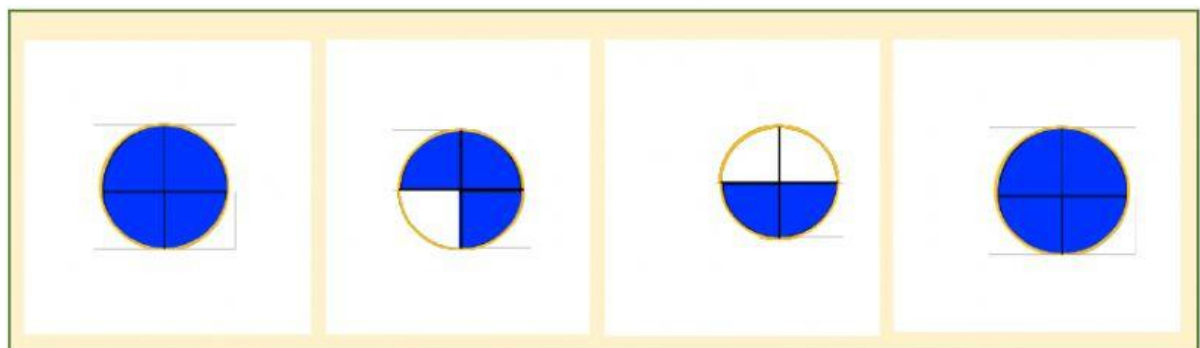
**II.- REALIZA LAS SIGUIENTES SUMAS DE FRACCIÓN. ARRASTRA LOS RESULTADOS DEL RECUADRO.**

$$\frac{1}{4} + \frac{1}{4} = \bigcirc$$

$$\frac{3}{4} + \frac{1}{4} = \bigcirc$$

$$\frac{3}{4} + \frac{1}{4} = \bigcirc$$

$$\frac{1}{4} + \frac{3}{4} = \bigcirc$$



**II.- REALIZA LAS SIGUIENTES RESTAS DE FRACCIÓN. ARRASTRA LOS RESULTADOS DEL RECUADRO.**

