

SISTEMA SOLAR

NOTA:

1	2	3	4	5	6	7	8	9	10
---	---	---	---	---	---	---	---	---	----

NOMBRE Y APELLIDOS: _____

FECHA: _____


1- ¿Qué teoría explica el origen del Universo?
Rodea las respuestas correctas.



TEORÍA DE BIG BANG
TEORÍA DE LA GRAN EXPLOSIÓN

TEORÍA DEL PERRO

2. El Universo está compuesto por millones de.....



GALAXIA

CASAS

3. Nuestra Galaxia se llama



LECHERÍA

VÍA LÁCTEA

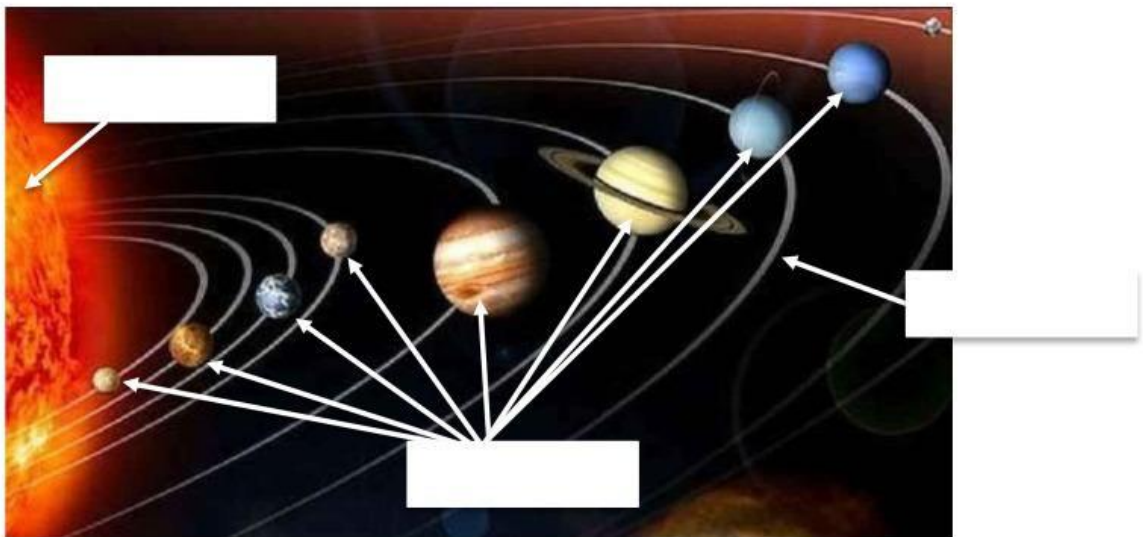
4. Di si es verdad o mentira:

El Sistema Solar está formado por el Sol y los astros que giran alrededor de él

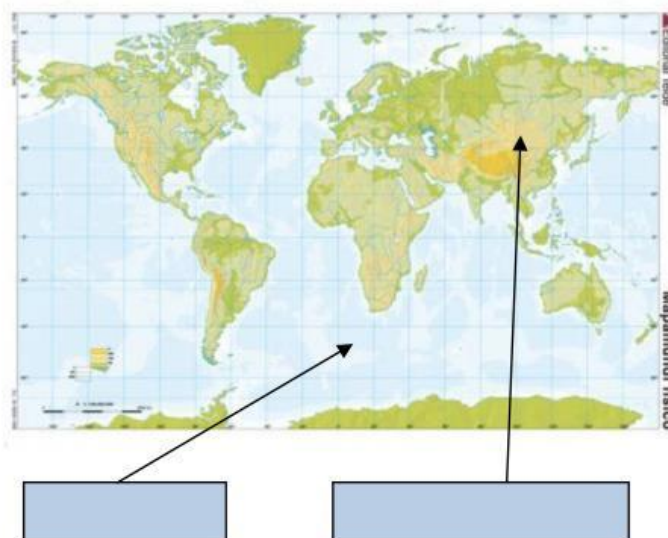
Verdad

Mentira

5. Arrastra el nombre a su lugar correcto:



6. En un mapa nos encontramos:



7. ¿Cómo se llama la imagen que esta abajo?



GLOBO TERRÁQUEO

PLANISFERIO