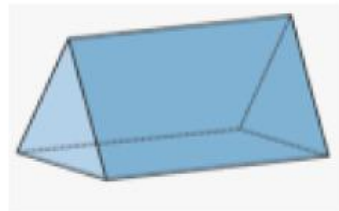
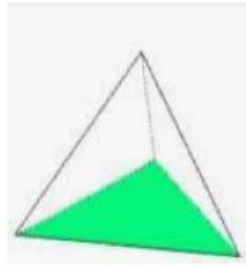
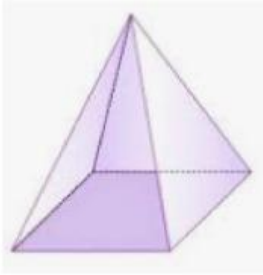


## LKPD (LEMBAR KERJA PESERTA DIDIK)

### SOAL PILIHAN GANDA

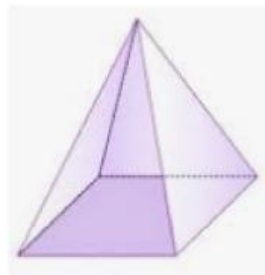
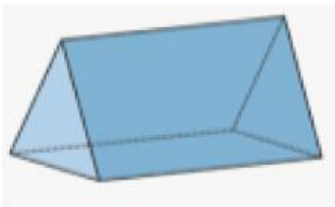
Dibawah ini yang merupakan gambar limas segitiga adalah ;



### SOAL ISIAN SINGKAT DAN PARAGRAF

1. Segitiga yang salah satu sudutnya  $90^\circ$  disebut ...
2. Teorema Pythagoras adalah ...

### SOAL DROP DOWN



**SOAL CHECK BOX**

Yang merupakan bagian dari bangun ruang sisi datar adalah

**KUBUS**

**PRISMA**

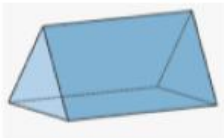
**LIMAS**

**TABUNG**

**SOAL JOIN ARROW**



**LIMAS SEGITIGA**



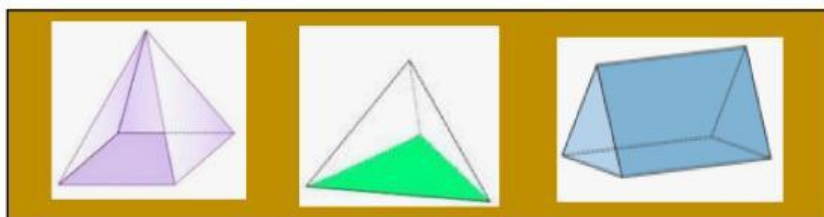


**LIMAS SEGI EMPAT**



**PRISMA SEGI TIGA**

### SOAL DRAG AND DROP

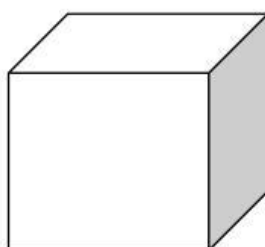
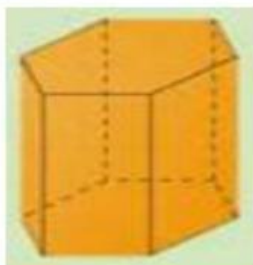
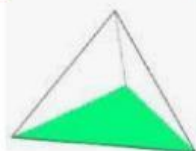


PRISMA SEGITIGA

LIMAS SEGITIGA

LIMAS SEGI EMPAT

### SOAL LISTENING



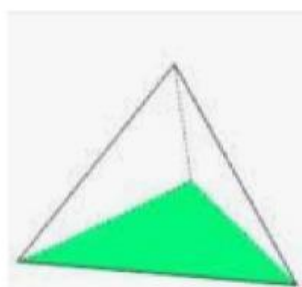
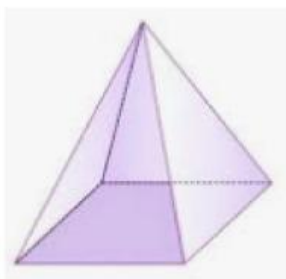
BENAR

SALAH

BENAR

SALAH

### SOAL SPEAKING



**SOAL WORD SEARCH**

Carilah kata ; Kubus, Balok, Prisma, Limas

A	K	U	B	U	S	P	O
Q	V	M	A	I	O	O	B
W	P	R	I	S	M	A	A
R	D	J	B	T	D	A	L
T	U	O	V	C	G	A	O
L	I	M	A	S	B	H	K
Y	T	A	I	Y	R	J	V