

## 2do EGB

1.- Mueve el número que falta para que la suma sea igual a 10. (2 puntos)

$9 + \square = 10$

$8 + \square = 10$

$7 + \square = 10$

$6 + \square = 10$

1

3

4

2

2.- Complete la secuencia de suma. (2 puntos)

1						
+2						
=						
	+3	=		+2	=	

3.- Resuelva las sumas y restas. Recuerde empezar desde la unidad. (2 puntos)





D	U
3	4
1	4

+

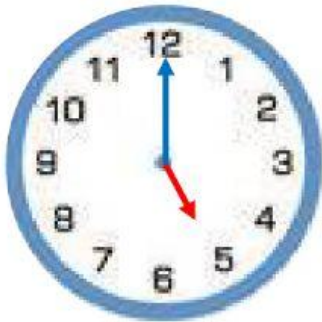
D	U
6	5
2	3

-

4.- Une con líneas las partes de los animales que correspondan. (2 puntos)



5.- Unir con líneas el reloj analógico con la hora indicada en el reloj digital. (2 puntos)



**09** : **30**



**05** : **00**



**04** : **30**



**11** : **00**