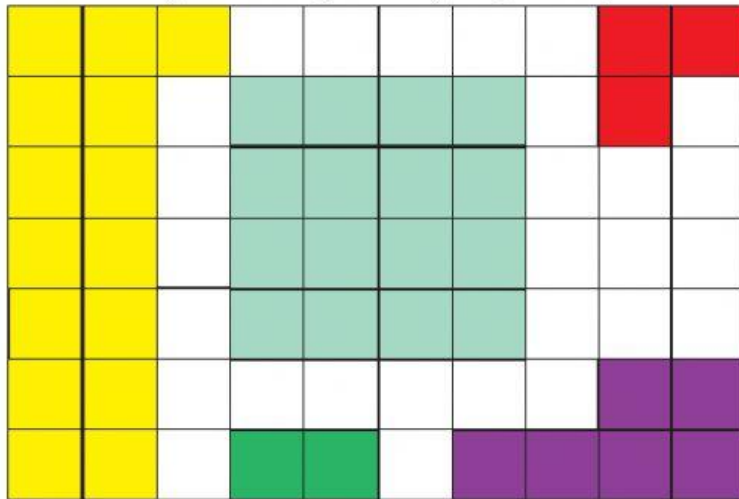


Nama

Kelas

Perhatikan gambar berikut!

Berikut ini gambar bagian-bagian sekolah!



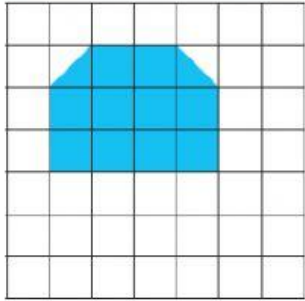
Isilah titik-titik di bawah ini sesuai gambar!

1. Ruang kelas digambarkan dengan warna kuning. Luas ruang kelas adalah ... persegi satuan.
2. Lapangan olahraga digambarkan dengan warna hijau. Luas lapangan olahraga adalah ... persegi satuan.
3. Ruang kepala sekolah digambarkan dengan warna biru. Luas ruang kepala sekolah adalah ... persegi satuan.
4. Ruang perpustakaan digambarkan dengan warna ungu. Luas ruang perpustakaan adalah ... persegi satuan.
5. Kamar kecil digambarkan dengan warna merah. Luas kamar kecil adalah ... persegi satuan.



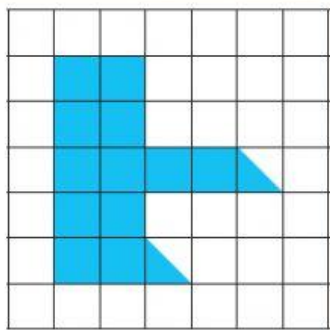


Hitunglah luas bagian berikut ini!



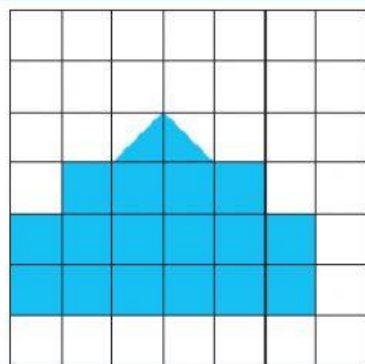
Luas daerah yang berwarna biru adalah ..... segitiga satuan

..... persegi satuan



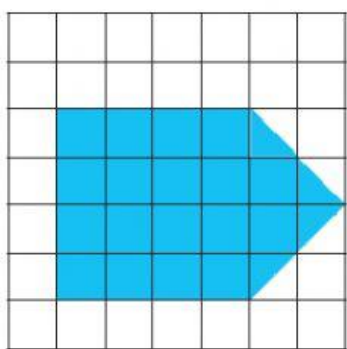
Luas daerah yang berwarna biru adalah ..... segitiga satuan

..... persegi satuan



Luas daerah yang berwarna biru adalah ..... segitiga satuan

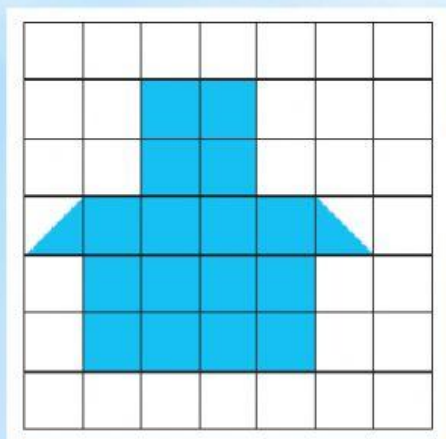
..... persegi satuan



Luas daerah yang berwarna biru adalah ..... segitiga satuan

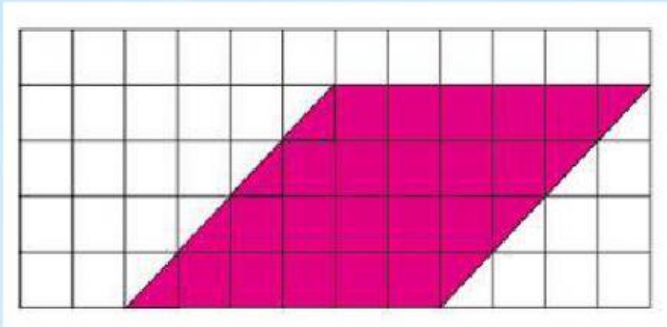
..... persegi satuan





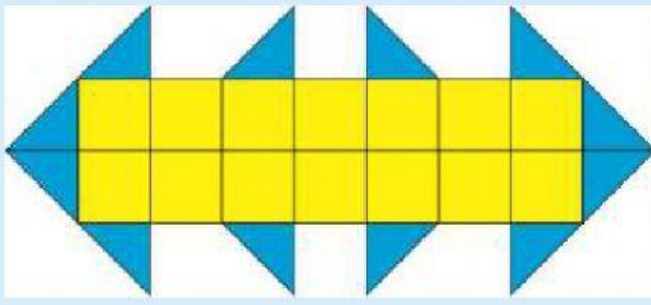
Luas daerah yang berwarna biru adalah ..... segitiga satuan

..... persegi satuan



Luas daerah yang berwarna ungu adalah ..... segitiga satuan

..... persegi satuan



Luas daerah yang berwarna ..... adalah ..... segitiga satuan

..... persegi satuan

