

SOAL EVALUASI

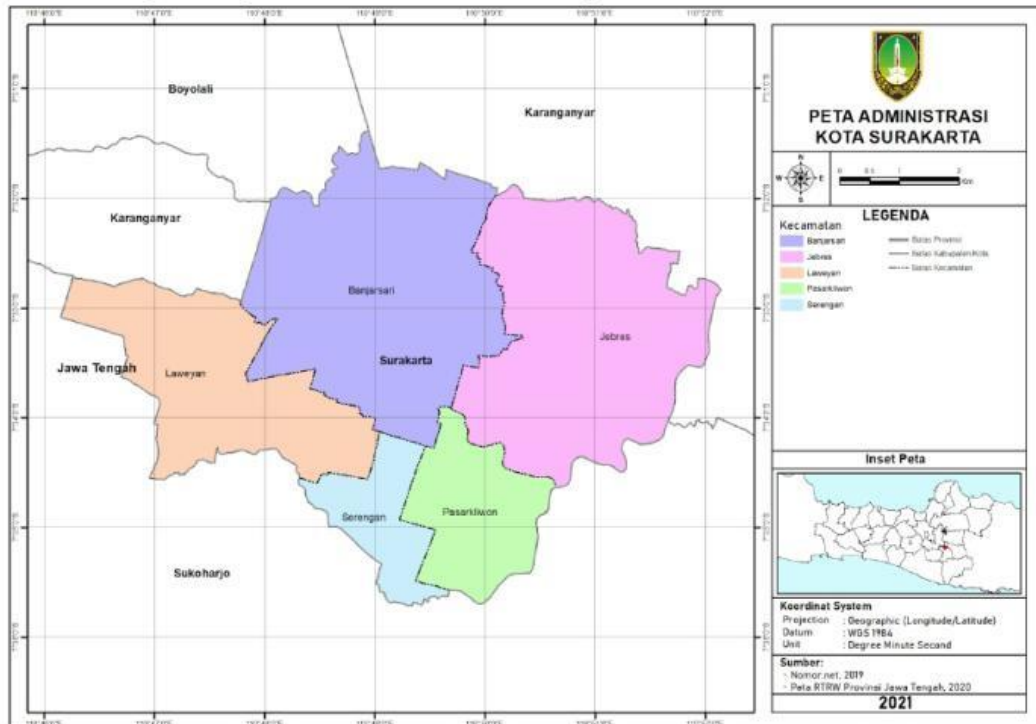
Nama	:	
Kelas	:	
Tanggal	:	

Petunjuk Pengerjaan :

1. Gunakan smartphone untuk mengerjakan!
2. Pastikan smartphone tersambung jaringan internet!
3. Scan barcode yang tersedia!
4. Kerjakan soal pada laman liveworksheet yang tersedia pada barcode secara individu!

A. Pilihlah jawaban (A/B/C/D) yang benar!

Perhatikan gambar peta di bawah ini untuk menjawab soal A!



1. Warna hijau pada peta diatas menunjukkan kecamatan

a. Pasar Kliwon	c. Jebres
b. Banjarsari	d. Laweyan

2. Informasi apa saja yang tercantum pada peta tersebut?

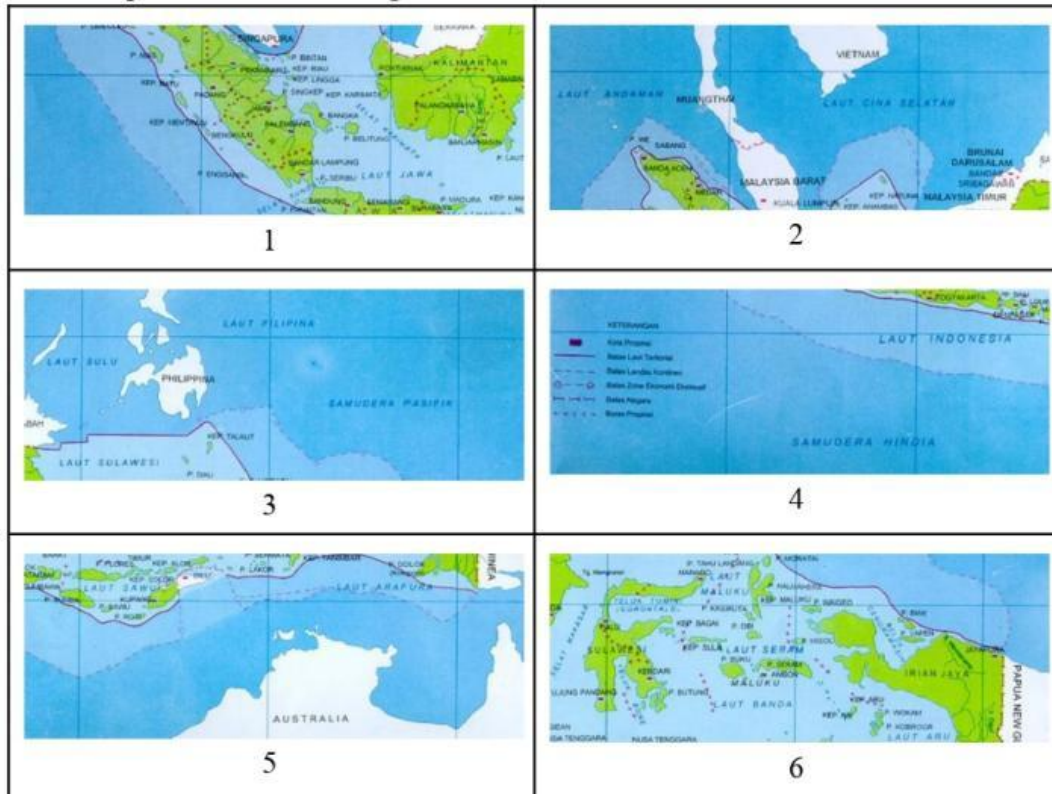
a. Skala, legenda, arah mata angin	c. Judul peta, skala, legenda
b. Judul peta, legenda, arah mata angin	d. tatawarna, arah mata angin, peta sisipan

3. Berbatasan dengan kabupaten apakah Surakarta di bagian selatan?

a. Sragen	c. Boyolali
b. Karanganyar	d. Sukoharjo

B. Jawablah essai di bawah ini dengan jawaban yang tepat!

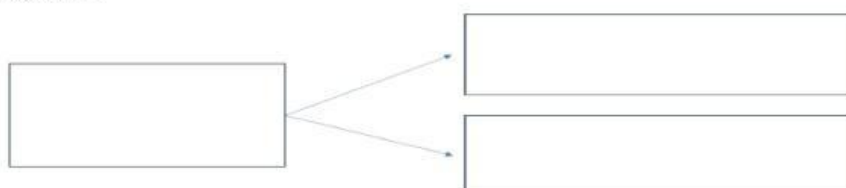
1. Susunlah peta di bawah ini dengan benar!



Jawab : (Tulis angka pada kotak yang menurutmu benar)

2. Buatlah mind mapping budaya Indonesia sebagai negara maritim!

Jawab :



3. Buatlah mind mapping budaya Indonesia sebagai negara maritim!
Jawab :

