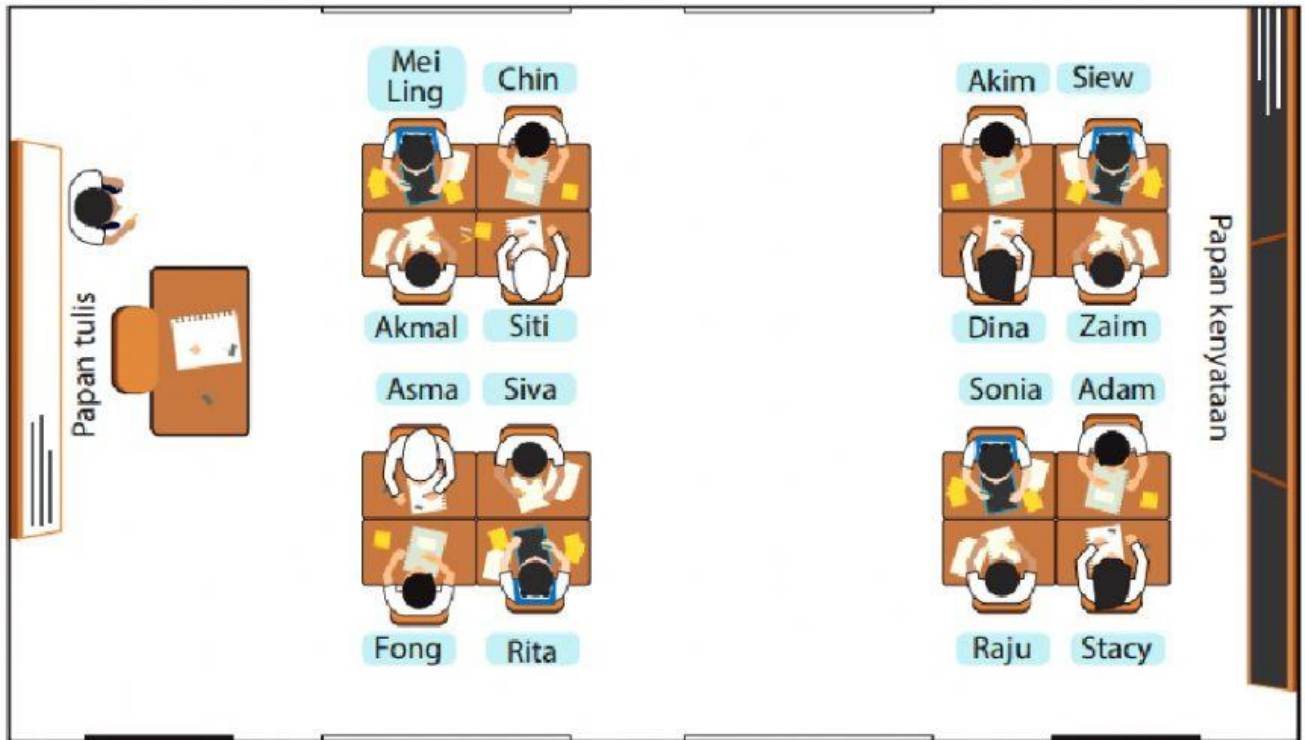


BAB 2 : KEDUDUKAN

Soalan 1 :



Berdasarkan rajah di atas, nyatakan kedudukan relatif bagi kedudukan murid-murid.

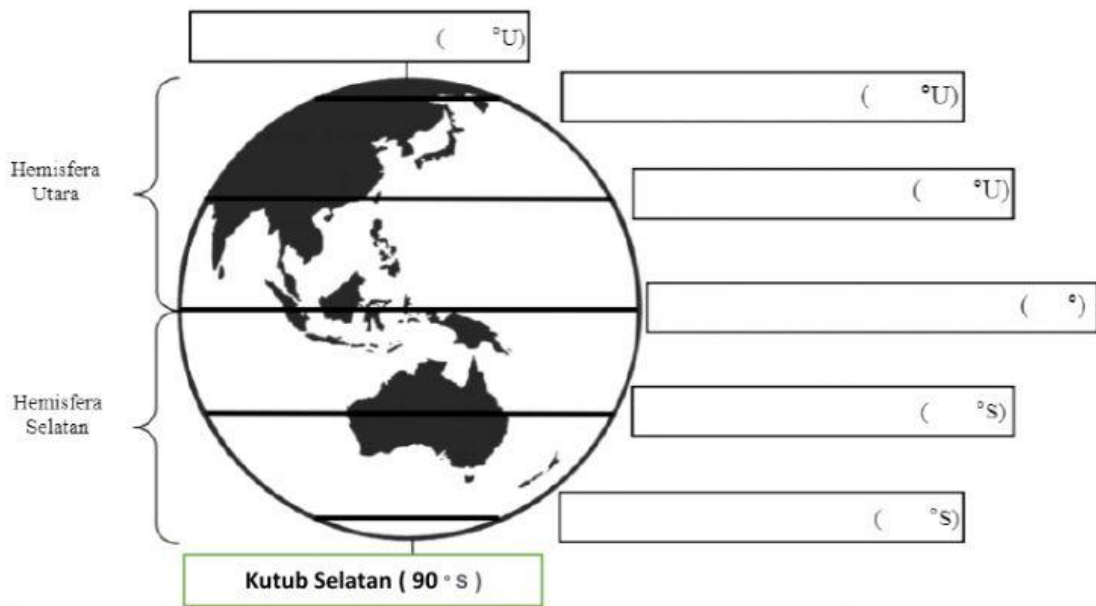
- kiri
- kanan
- hadapan
- belakang
- kiri
- hadapan

Bil.	Titik Rujukan	Kedudukan murid
1.	Sonia	a) Adam duduk di sebelah _____. b) Raju duduk di hadapan _____. c) Siva duduk di sebelah kanan _____.
2.	Siva	a) Sonia duduk di sebelah _____. b) Rita duduk di _____. c) Siti duduk di _____.

Soalan 2 :

Padankan nama dan sudut bagi latitud di bawah .

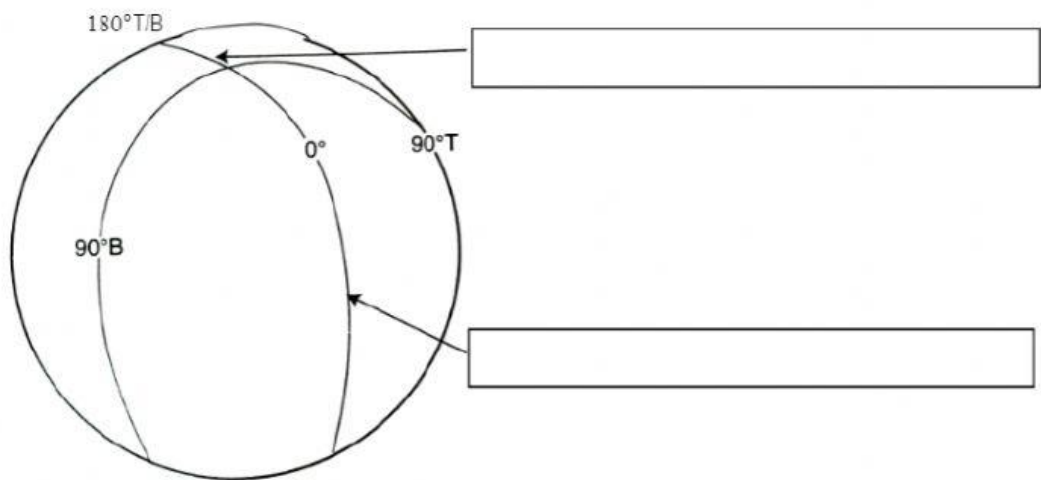
Kutub Utara (90 ° U)	Garisan Khatulistiwa (0°)	Garisan Sartan (23 1/2° U)
Garisan Artik (66 1/2° U)	Garisan Antartik (66 1/2° S)	Garisan Jadi (23 1/2° S)



Soalan 3:

Padankan nama longitud di bawah.

Garisan Tarikh Antarabangsa (GTA)	Garisan Meridian Pangkal
-----------------------------------	--------------------------



Soalan 4 :

Padankan jawapan yang betul.

1. Latitud terpanjang
2. Latitud 23 °S
3. Latitud yang terletak di antara Garisan Khatulistiwa dengan Garisan Artik.
4. Garisan Greenwich terletak berhampiran ibu negara England ...
5. Latitud utama paling selatan
6. Latitud 66 °U

