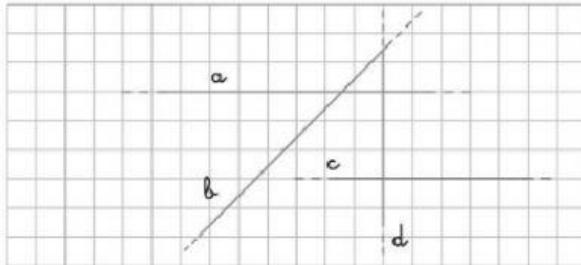


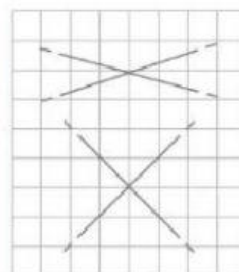
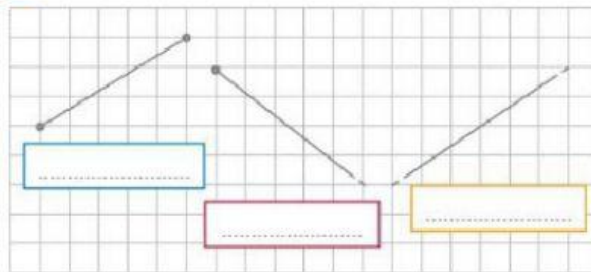
Rette e angoli

1 Classifica nella tabella le rette a seconda della loro posizione reciproca. Segui l'esempio.



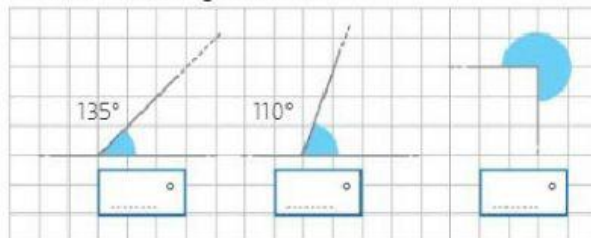
	a	b	c	d
a	X	Incidenti
b	X
c	X
d	X

2 Osserva, scrivi il tipo di linea rappresentata e completa.



- Due rette incidenti formano angoli e angoli
- Due rette perpendicolari formano angoli

3 Indica l'ampiezza degli angoli colorati senza usare il goniometro.

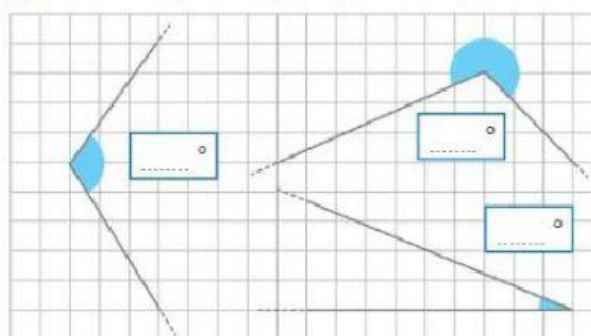


5 Osserva e completa.

- In che posizione è la retta rispetto a te?

La retta è in posizione

4 Misura l'ampiezza degli angoli con il goniometro.



- In che posizione è la retta per i due bambini?

