



ESCUELA DE EDUCACIÓN BÁSICA "EDUARDO KINGMAN"

EXAMEN FINAL

CALIFICACIÓN

ASIGNATURA: CIENCIAS NATURALES

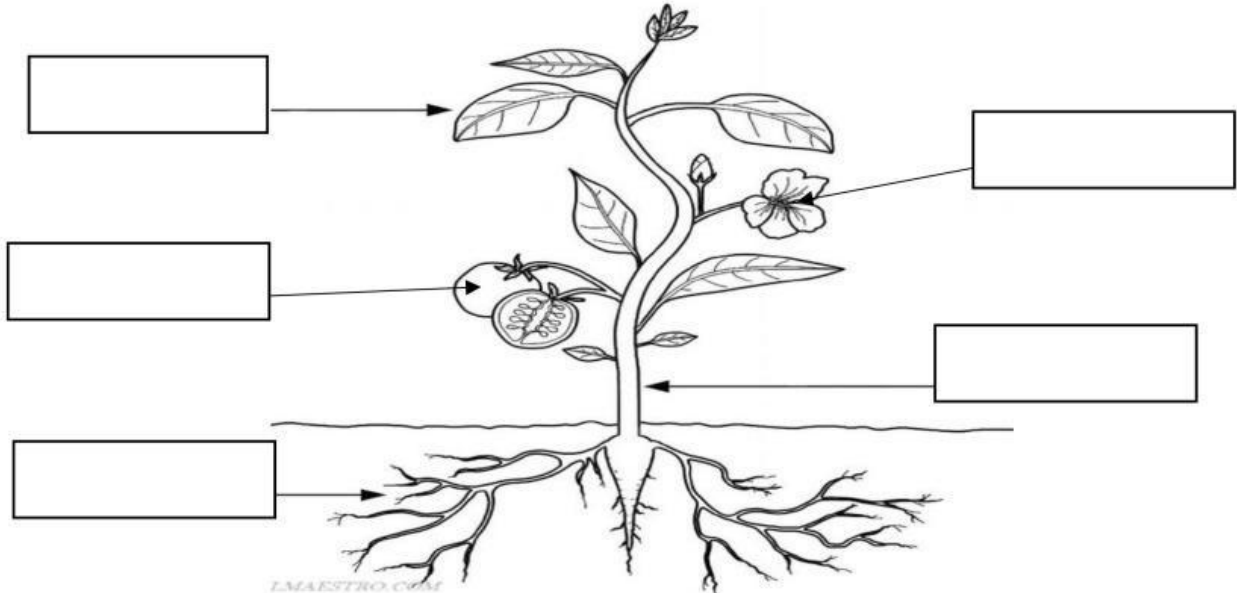
AÑO BÁSICO: 3ero A/B

NOMBRE: _____

FECHA: _____

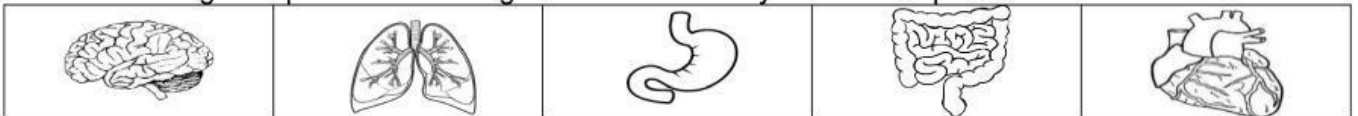
FIRMA DEL PROFESOR

1. Elige los nombres correctos de las partes de la planta. (1.25 pts)

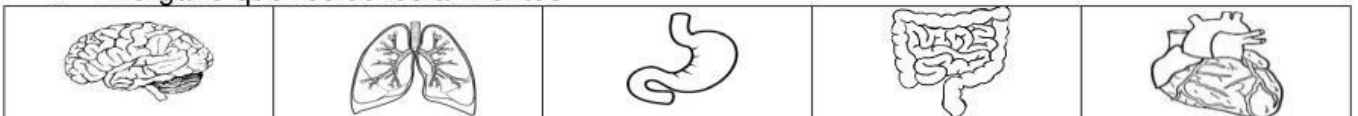


3. Observa las imágenes y selecciona la respuesta correcta (0.75 pts.)

a. Es el órgano que recibe el oxígeno del aire nos ayuda a la respiración.



b. El órgano que recibe los alimentos



c. Bombea sangre a todo el cuerpo.



3.- Arrastra las palabras del recuadro donde corresponda. (2 pts.)

tronco - hierbas - arbustos - suelo - tallos

- El árbol tiene un tallo grueso y duro llamado
- El tiene un tronco corto y duro. Sus ramas crecen cerca del .
- Las son pequeñas. Sus son blandos, delgados y verdes.

4.-Marca la respuesta correcta (1 punto).

a. El movimiento de rotación dura aproximadamente:

12 horas

265 días

24 horas

ninguna de las anteriores

b. El movimiento de rotación da como resultado:

el día y la noche

estaciones del año

eclipses

todas las anteriores

c. Consiste en que la Tierra gira alrededor del sol, corresponde al movimiento de:

Traslación

día y noche

Rotación

las estaciones

d. El movimiento de traslación dura:

175 horas

365 días

200 días

ninguna de las anteriores

5.- Observa el recuadro y elige la palabra que completa los enunciados. (0.75 pts.)

Tallo

-

raíz

-

hojas


Las plantas reciben la luz del Sol y respiran por las

El sostiene la planta.

Las plantas toman agua y sales minerales por la

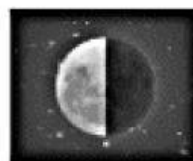

6.- Elige sí o no según corresponde. (2 pts.)

La luna llena es la que tiene forma de C	<input type="checkbox"/>
La luna es un satélite natural de la tierra.	<input type="checkbox"/>
La luna tiene luz propia	<input type="checkbox"/>
Los eclipses se forman cuando se alinean la tierra la luna y el sol	<input type="checkbox"/>
El cuerpo humano tiene 200 huesos	<input type="checkbox"/>
Las articulaciones son las uniones de los huesos y los músculos	<input type="checkbox"/>

7.-Coloca un  en el casillero según corresponda al tipo de mezcla. (1.50 pts.)

	Homogénea	Heterogénea
Agua con tierra	<input type="checkbox"/>	<input type="checkbox"/>
Gasolina	<input type="checkbox"/>	<input type="checkbox"/>
Coca Cola	<input type="checkbox"/>	<input type="checkbox"/>
Agua de mar	<input type="checkbox"/>	<input type="checkbox"/>
Ensalada	<input type="checkbox"/>	<input type="checkbox"/>

8. Unir con línea según corresponda. (0.75 pts.)



Luna Llena

Cuarto menguante

Cuarto creciente