




Складаємо короткий запис задачі

1. Обчисли значення виразів і дізнайся, з якого пластиліну зліплені іграшки. Розфарбуй їх.

$5+3-3$ $6+4-4$ $3+7-3$ $2+8-2$ $9+1-1$ $10+0-0$





2. Склади задачі за коротким записом. Розв'яжи їх.

 — 4 ігр. }
 — 2 ігр. } ?

(ігр.)

Відповідь: іграшок разом.

 — 7 ігр. }
 — 3 ігр. } На ?

(ігр.)

Відповідь: папуг на менше.

3. Заповни порожні клітинки потрібним числом.

8	
3	<input type="text"/>
2	<input type="text"/>
7	<input type="text"/>
5	<input type="text"/>
4	<input type="text"/>
6	<input type="text"/>
1	<input type="text"/>

9	
6	<input type="text"/>
2	<input type="text"/>
4	<input type="text"/>
7	<input type="text"/>
5	<input type="text"/>
1	<input type="text"/>
3	<input type="text"/>
8	<input type="text"/>

Доданок	4	<input type="text"/>	7	<input type="text"/>	1	<input type="text"/>	6
Доданок	<input type="text"/>	2	<input type="text"/>	3	<input type="text"/>	5	<input type="text"/>
Сума	8	8	8	8	8	8	8

Доданок	6	<input type="text"/>	1	<input type="text"/>	2	<input type="text"/>	3	<input type="text"/>
Доданок	<input type="text"/>	4	<input type="text"/>	7	<input type="text"/>	5	<input type="text"/>	8
Сума	9	9	9	9	9	9	9	9