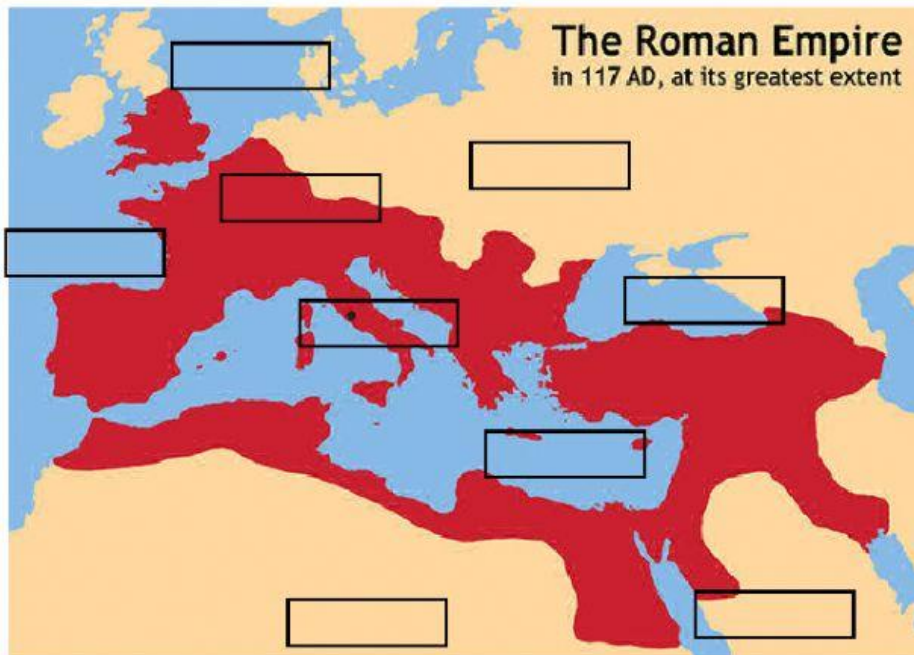


LOCALIZAÇÃO DO IMPÉRIO ROMANO

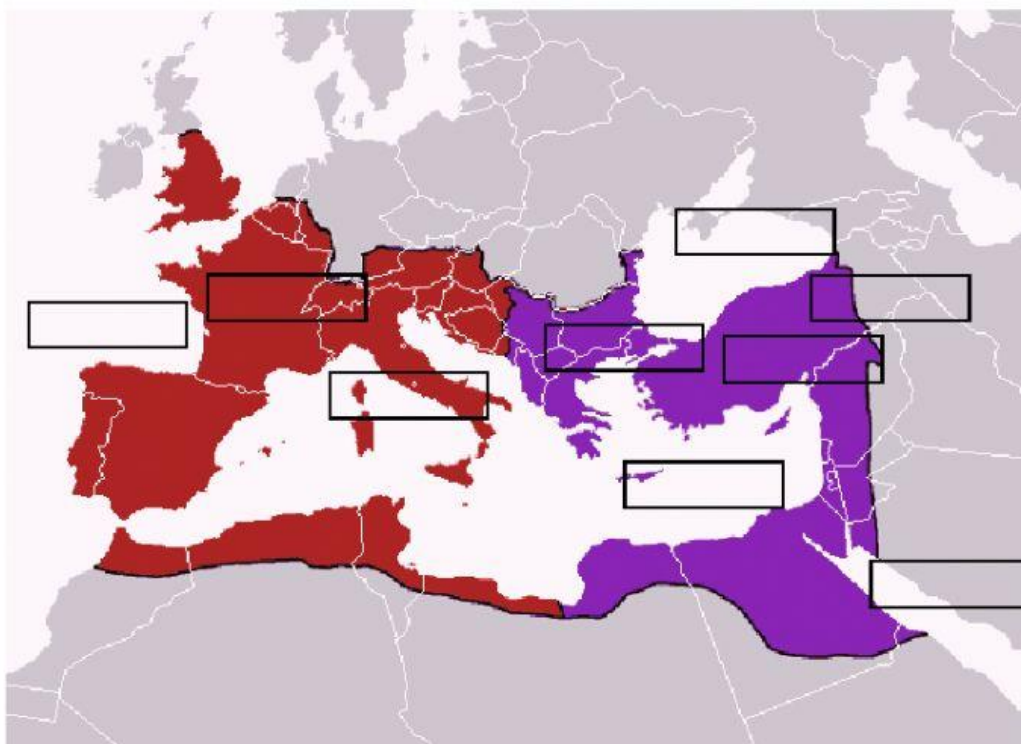
O Império Romano foi o maior Império da Antiguidade, e depois que desapareceu no território que ocupava surgiram diferentes reinos e sociedades. A importância desse Império para a História é tão grande que não podemos deixar de poder localizá-lo geograficamente. Assim, indique no mapa a localização das principais fronteiras do Império Romano, no período de sua maior extensão territorial.



Mar Negro
Norte da Europa
Roma
Deserto do Saara
Império Romano
Mar Vermelho
Mar do Norte
Mar Mediterrâneo
Oceano Atlântico

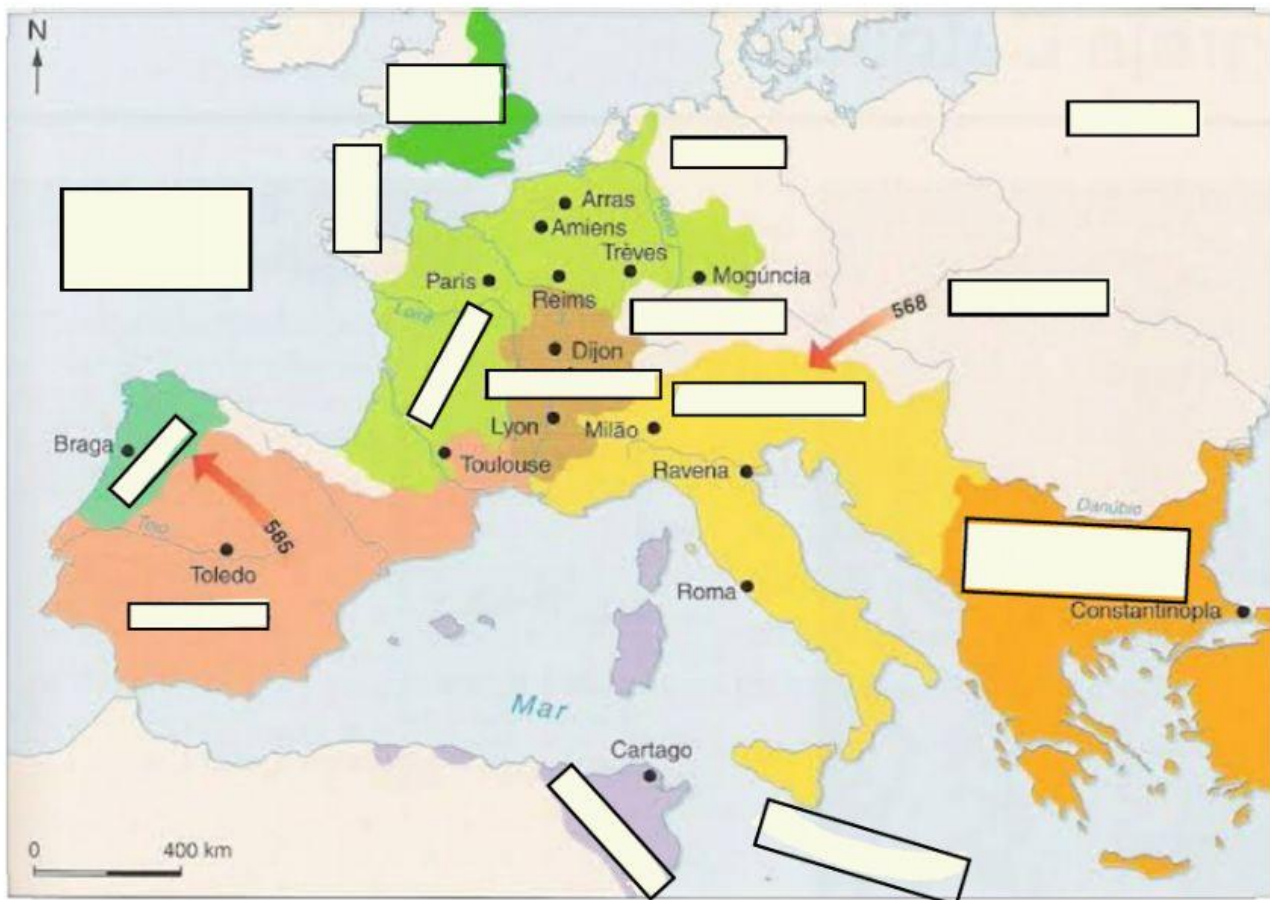
DECLÍNIO DO IMPÉRIO ROMANO

O Império Romano foi dividido em duas partes, em razão de problemas econômicos, sociais e político. Surgiram então o Império Romano do Ocidente e Império Romano do Oriente. Indique onde cada parte ficava localizada. Posteriormente uma dessas parte passou a ser conhecido como IMPÉRIO BIZANTINO. Cada uma dessas parte tinha uma capital, no caso eram ROMA e BIZÂNCIO.



INVASÕES BÁRBARAS

Vários povos invadiram o território do Império Romano, observe o mapa abaixo e relacione esses povos com as regiões onde eles permaneceram por mais tempo.



Mar Mediterrâneo

Oceano Atlântico

Suevos

Visigodos

Vândalos

Francos

Anglo-saxões

Bretões

Burgúndios

Ostrogodos

000000

Alamanos

Império Romano do Oriente

Lombardos

Eslavos