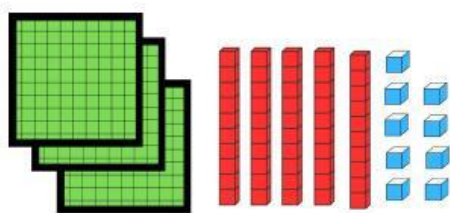


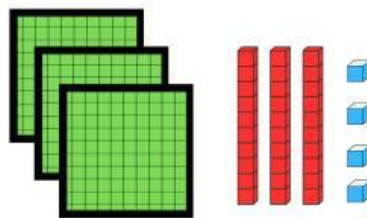
Nombre: _____

REPASO MATEMÁTICAS TEMA 5

1. Escribe los números correspondientes



___ C + ___ D + ___ U



___ C + ___ D + ___ U

2. Escribe los números que están entre 366 y 374



3. Completa

$$-367 = \text{---} \text{C} + \text{---} \text{D} + \text{---} \text{U}$$

$$-359 = \text{---} \text{C} + \text{---} \text{D} + \text{---} \text{U}$$

$$-2\text{C} + 9\text{D} + 6\text{U} = \text{---}$$

$$-5\text{C} + 3\text{D} + 2\text{U} = \text{---}$$

$$-167 = \text{---}$$

$$-253 = \text{---}$$

$$-359 = \text{---}$$

4. Ordena de menor a mayor

345, 243, 137, 312, 58, 15.






Nombre: _____

REPASO MATEMÁTICAS TEMA 5

5. Calcula estas operaciones

84	62	81	80	43	73	84
-69	-43	-52	-14	-25	-53	-68
<hr/>	<hr/>	<hr/>	<hr/>	<hr/>	<hr/>	<hr/>

6. Di si son simétricas estas figuras



6. En un teatro se vendieron 84 entradas el sábado y 56 el domingo. ¿Cuál es la diferencia entre la cantidad de entradas del sábado y del domingo?

Datos: entradas sábado



entradas domingo



¿Para calcular una diferencia se hace una suma o una resta?

Escríbelo



Ahora calcula el resultado. Escribe + si es una suma o - si tienes que hacer una resta.

	84
	56
	<hr/>