

Examen del tercer trimestre.

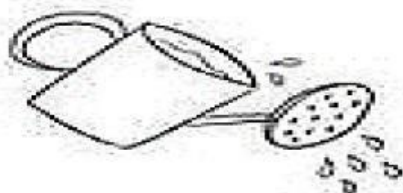
Nivel: Primero de Básica.



Ámbito: Relación lógico-matemático.

1.- Une correctamente las causas con el efecto. (2 pts)

CAUSA





EFEECTO





2.- Seleccione la respuesta correcta. (2 pts)

1.- Seleccione el grupo que tiene menos animales.




2.- Seleccione el grupo que tiene más renos.



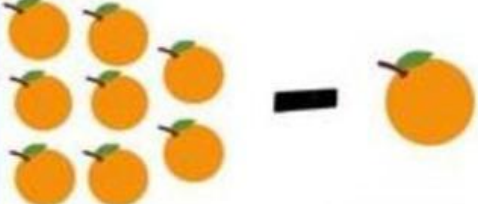
3.- Escriba los números que falta en la siguiente secuencia. (2 pto)

|    |    |    |    |    |    |    |    |    |     |
|----|----|----|----|----|----|----|----|----|-----|
|    |    |    |    |    |    |    |    |    | 70  |
|    | 72 |    | 74 |    | 76 |    | 78 | 79 |     |
| 81 |    | 83 |    | 85 |    | 87 |    | 89 | 90  |
| 91 | 92 |    | 94 |    |    | 97 | 98 |    | 100 |


4.- Escriba la respuesta correcta de las siguientes sumas y restas. (2 pto)




$4 + 2 = \square$



$8 - 1 = \square$



$5 - 3 = \square$



$5 + 5 = \square$

5.- Dictado de números. (2 pto)

1.-

2.-

3.-

4.-

5.-

6.-

7.-

8.-

9.-

10.-