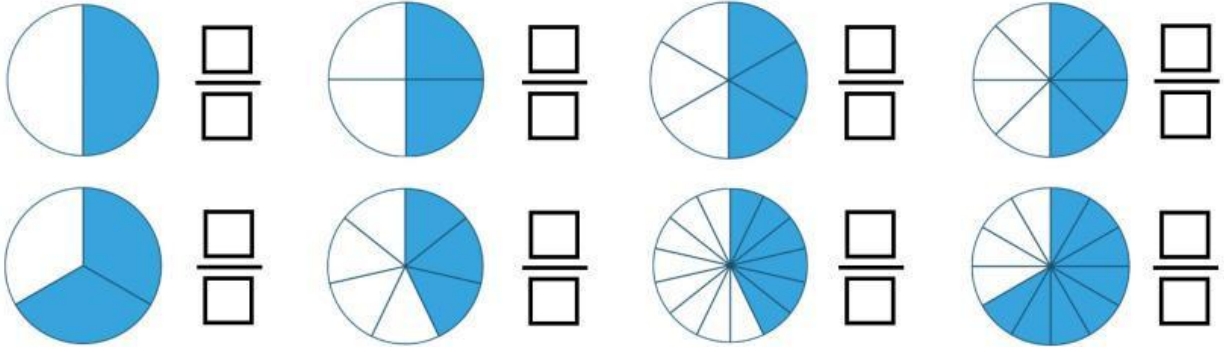


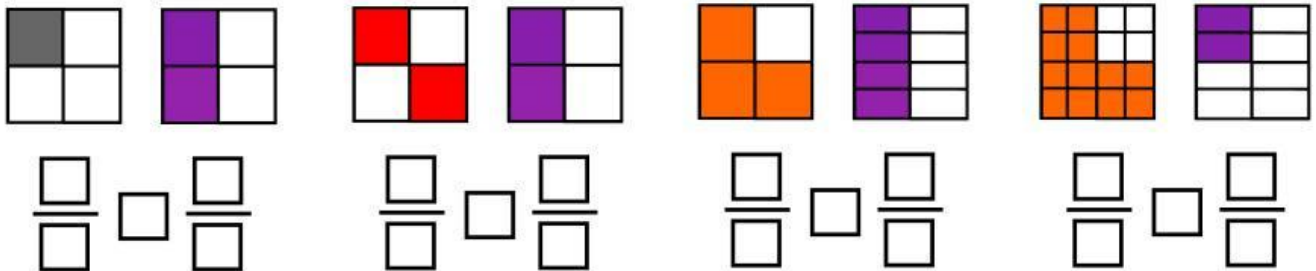
Nombre:
Grado y Grupo:

1. observa atentamente cada figura y escribe en los recuadros la fracción que le corresponde a cada uno.





¿Qué es lo que puedes observar en las primeras cuatro figuras?

2. Observa cada figura y en los recuadros inferiores escribe la fracción que la representa, posteriormente en el cuadro que queda en medio de las fracciones escribe los símbolos de mayor que ($>$), menor que ($<$) o igual que ($=$) según corresponda.



3. Encuentra en la recta numérica las fracciones que se piden.



Anota todas las observaciones y conclusiones que hayas obtenido durante la realización de los ejercicios anteriores.