
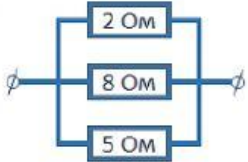

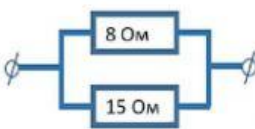


Прізвище, ім'я, клас

Встановіть відповідність між фізичними величинами та одиницями їх вимірювання

| | | | | |
|--------------------------|--|---|--|--------|
| Опір | | U | | Ом |
| Сила струму | | A | | Ом · м |
| Питомий опір | | q | | В |
| Робота електричного поля | | R | | А |
| Електричний заряд | | I | | Кл |
| Напруга | | ρ | | Дж |

Визначити

| | | | |
|-------------------------------------------------------------------------------------|-------------------------------------------------------------------------------------|--------------------------------------------------------------------------------------|---------------------------------------------------------------------------------------|
|  |  |  |  |
| $R_{\text{заг}} = \square$ | $R_{\text{заг}} = \square$ | $R_{\text{заг}} = \square$ | $R_{\text{заг}} = \square$ |
| $U_{\text{заг}} = 20 \text{ В}$ | $U_{\text{заг}} = 20 \text{ В}$ | $U_{\text{заг}} = 20 \text{ В}$ | $U_{\text{заг}} = 20 \text{ В}$ |
| $I_{\text{заг}} = \square$ | $I_{\text{заг}} = \square$ | $I_{\text{заг}} = \square$ | $I_{\text{заг}} = \square$ |
| $I_{3 \text{ Ом}} = \square$ | $I_{5 \text{ Ом}} = \square$ | $I_{10 \text{ Ом}} = \square$ | $I_{15 \text{ Ом}} = \square$ |
| $U_{2 \text{ Ом}} = \square$ | $U_{2 \text{ Ом}} = \square$ | $U_{15 \text{ Ом}} = \square$ | $U_{8 \text{ Ом}} = \square$ |