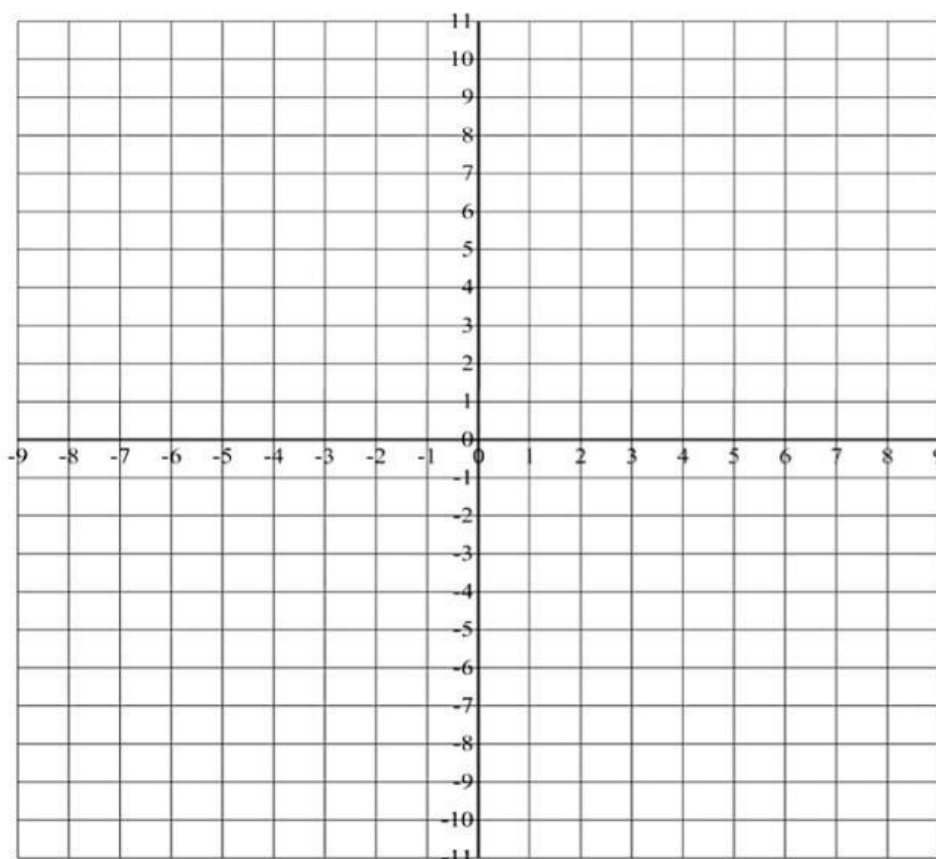


 Unidad Educativa Ezra Taft Benson	EXAMEN DEL TERCER PERIODO	Calificación:
--	----------------------------------	---------------

Área: ARITMÉTICA	Asignatura: Matemática Moderna Geometría y medidas	Año Lectivo: 2023 -2024
Docente: Lcda. Alexandra I. Vergara R.	Unidad Curricular No. 5 Y 6	Grado/Curso: QUINTO Paralelo: B
Nombre:	Fecha:	

1.- Observe bien el plano cartesiano luego arrastre cada letra a la coordenada que corresponde.



A (-2, 2)

B (4,2)

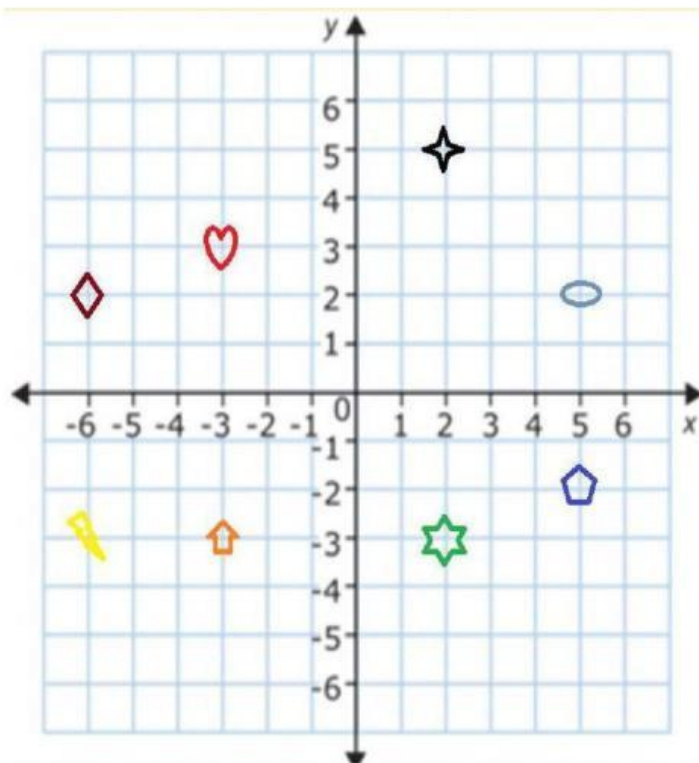
C (4, -1)









D (1, -3)

E (1, 4)

F (-2, -1)

2.- Observe bien el plano cartesiano, luego escriba las coordenadas de cada objeto que se encuentra en el plano cartesiano.



OBJETO	COORDENADAS
	
	
	
	
	
	
	
	

3.- Observe el siguiente plano cartesiano y luego responda a las siguientes preguntas.

Pulse la respuesta correcta en cada caso:

a) El número que falta para completar las coordenadas de la posición del carro es este



(, - 1)

4

- 4

- 1

b) Cuál es la coordenada de

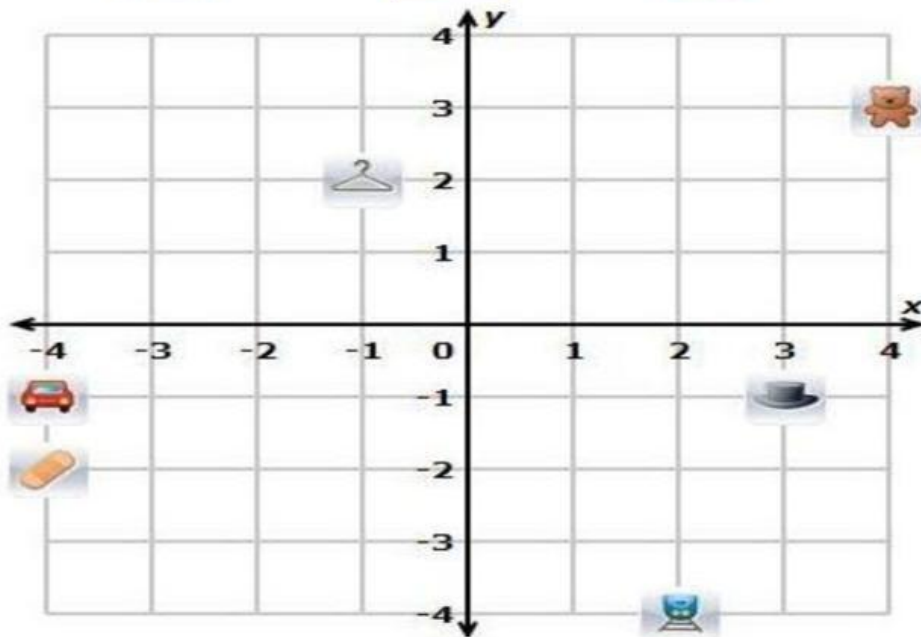


(2 , - 1)

(1 , 2)

(-1 , 2)

c) Cuál figura se ubica en las coordenadas (2 , - 4)



ELABORADO POR: LCDA. ALEXANDRA I. VERGARA R.	REVISADO POR: Prof. NELLY LINDAO	APROBADO POR: MSC. LUIS QUIÑONEZ
FIRMA:	FIRMA:	FIRMA:

