



PONDOK PESANTREN AZMANIA PONOROGO

MA AZMANIA PONOROGO

LEMBAR KERJA PESERTA DIDIK KIMIA

BENZENA DAN TURUNANNYA

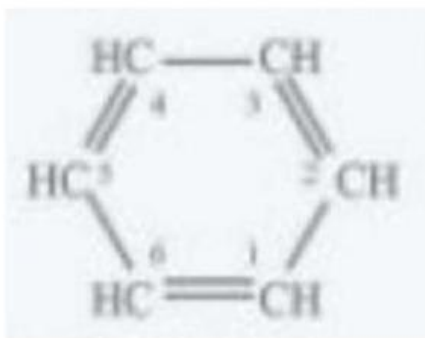
NAMA ANGGOTA :

1.
2.
3.
4.
5.

Isilah titik-titik dibawah ini dengan menggunakan huruf kecil semua !

1. Struktur Benzena ditemukan pertama kali oleh
2. Senyawa benzena merupakan senyawa dengan rantai karbon berikatan dan selang- seling yang mengalamielektron.

3.



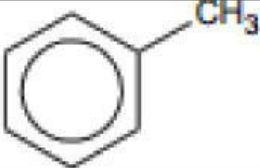
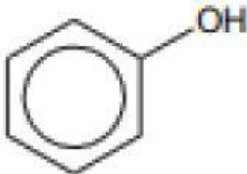
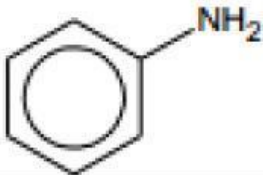
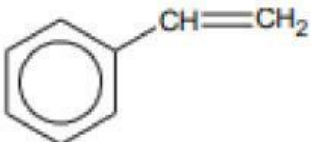
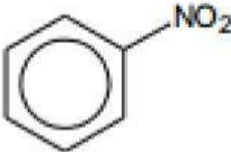
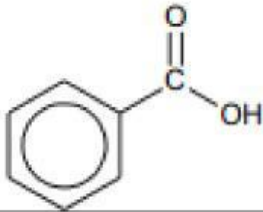
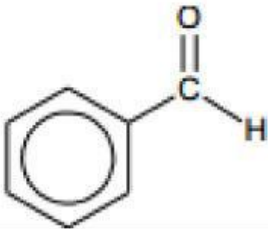
Gambar disamping merupakan struktur benzena menurut.....

4. Sedangkan gambar disamping merupakan struktur benzena menurut



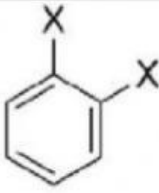
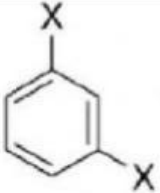

5. Karakter Benzen adalah ...

Lengkapilah Tabel berikut !

Struktur Benzena	Nama Benzena
	
	
	
	
	
	
	



Bila senyawa turunan benzena dengan dua buah substituent, misal dua buah atom X, maka terdapat istilah khusus dalam penyebutan posisinya. Dari hal tersebut, lengkapilah tabel berikut !

		
Posisi	Posisi	Posisi

Tulislah nama senyawa-senyawa berikut menggunakan istilah khusus tersebut !

