





1 Hoàn thành bảng sau (theo mẫu).

	Chục	Đơn vị	Viết số	Đọc số
	3	4	34	ba mươi tư
				năm mươi mốt
			46	
				

2 Tìm cà rốt cho thỏ.



3 Hoàn thành bảng sau (theo mẫu).

Số gồm	Viết số	Đọc số
5 chục và 7 đơn vị	57	năm mươi bảy
7 chục và 5 đơn vị		bảy mươi lăm
6 chục và 4 đơn vị		
? chục và ? đơn vị	91	

- 4** a) Tìm những bông hoa ghi số lớn hơn 60.
 b) Tìm những bông hoa ghi số bé hơn 50.
 c) Tìm những bông hoa ghi số vừa lớn hơn 50 vừa bé hơn 60.



KẾT NỐI TRI THỨC
VỚI CUỘC SỐNG

1 Số ?

$\begin{array}{c} 35 \\ \swarrow \quad \searrow \\ 30 \quad 5 \\ 35 = 30 + 5 \end{array}$	$\begin{array}{c} 67 \\ \swarrow \quad \searrow \\ 60 \quad \square \\ 67 = 60 + \square \end{array}$	$\begin{array}{c} 59 \\ \swarrow \quad \searrow \\ \square \quad 9 \\ 59 = \square + 9 \end{array}$	$\begin{array}{c} 55 \\ \swarrow \quad \searrow \\ \square \quad \square \\ 55 = \square + \square \end{array}$
---	---	---	---