


ชื่อ _____

ชื่อเล่น _____

ชั้น _____

เลขที่ _____

ใบงานที่ 1 การเปลี่ยนแปลงชั้นบรรยากาศ



ตอนที่ 1 จงเขียนเครื่องหมายถูกหน้าข้อความที่ถูกต้อง

1. องค์ประกอบทั่วไปของอากาศมีอะไรบ้าง

แก๊สออกซิเจน

แก๊สคาร์บอนไดออกไซด์

แก๊สไนโตรเจน

น้ำ

ฝุ่นละออง

แก๊สคาร์บอนมอนอกไซด์

2. อากาศมีประโยชน์ต่อการดำรงชีวิตของมนุษย์เป็นอย่างไร

ใช้ในการหายใจ

ใช้ในการผลิตพลังงานไฟฟ้า

ใช้ในการสูบลมจักรยาน

ช่วยให้เครื่องบินหรือเครื่องร่อนลอยได้

ตอนที่ 2 จงเขียนข้อความที่ในกล่องสี่เหลี่ยมไปเติมคำให้ถูกต้อง

ไม่มีบรรยากาศห่อหุ้ม

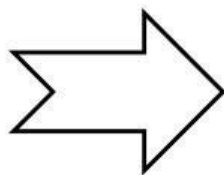

ไอน้ำ แก๊สคาร์บอนไดออกไซด์และแก๊สแอมโมเนีย

พลังงานจากดวงอาทิตย์

แก๊สออกซิเจน

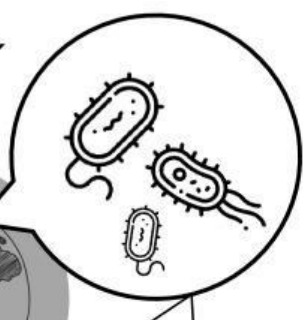
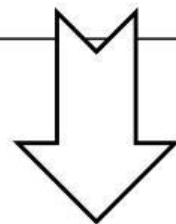

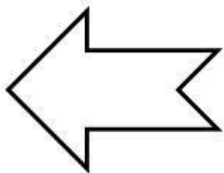
แก๊สไนโตรเจน และ แก๊สไฮโดรเจน

แบคทีเรีย



เมื่อโลกเกิดขึ้นในช่วงแรกๆ
โลก _____

การระเบิดของภูเขาไฟบนโลกทำให้เกิด _____
_____ ซึ่งเป็นองค์ประกอบของบรรยากาศเริ่มแรก
ของโลก



บรรยากาศของโลกที่มี
องค์ประกอบดังปัจจุบัน

_____ ทำให้แอมโมเนียแตกตัวเป็น

_____ เกิดขึ้นในมหาสมุทร
ปล่อย _____ สู่
บรรยากาศ