

EGB ELEMENTAL Y MEDIA
2023-2024

Examen – Periodo 2
MATEMÁTICA

Instrucción:

- Lea detenidamente cada orden antes de responderla.
- Escriba con letras y números legibles. No se aceptan tachones.
- No se harán válidas dobles respuestas.
- Asegúrese de responder todas las preguntas antes de entregar la prueba.

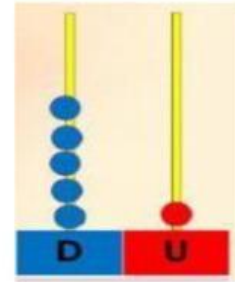
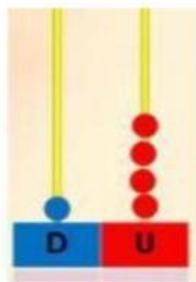
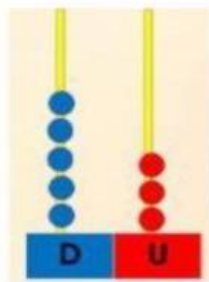
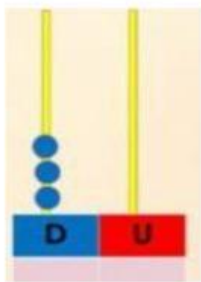
1. ESCRIBE LOS NÚMEROS QUE COMPLETAN LA SECUENCIA



2. COMPLETA EL CUADRO CON LOS NÚMEROS QUE FALTAN

51	52	53	54		56	57	58	59	
61	62	63	64	65	66	67		69	70
	72	73	74	75		77	78	79	80
81	82	83	84	85	86	87	88	89	
91	92		94	95	96	97	98	99	100

3. UNE CON LÍNEAS LOS ÁBACOS Y SU CORRESPONDIENTE NÚMERO



14

51

30

53

4. Colorea las manzanas según sus resultados. Observa el código de colores.

