

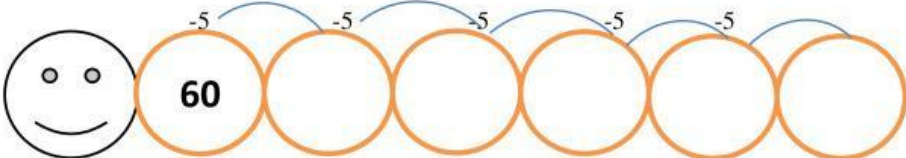




5.OBSERVA Y ESCRIBE SI EL EVENTO ES SEGURO O IMPOSIBLE	1 PUNTO																																								
<div style="display: flex; justify-content: space-around;"><div style="text-align: center;"><p>Obtener el número 13 al lanzar un dado</p><p>A) SEGURO B) IMPOSIBLE</p></div><div style="text-align: center;"><p>Obtener 1,2,3,4,5 o 6 al lanzar un dado</p><p>A) SEGURO B) IMPOSIBLE</p></div></div>																																									
5. Escribe enfrente de cada evento si es imposible o seguro que suceda.	1PUNTOS																																								
<p><u>El domingo se va al colegio a estudiar.</u> _____</p> <p><u>Tener vacaciones al finalizar... el año.</u> _____</p> <p><u>-Cumplir años cada año.</u> _____</p> <p>- PONERME LA CAMISETA EN LAS PIERNAS _____</p>																																									
6.REALIZA LA SIGUIENTE SUSECIÓN DECRECIENTE	1 PUNTO																																								
																																									
8. REALIZA LAS SIGUIENTES RESTAS	2 PUNTO																																								
<div style="display: flex; justify-content: space-around;"><div style="text-align: center;"><table border="1"><thead><tr><th></th><th style="background-color: red;">c</th><th style="background-color: blue;">d</th><th style="background-color: green;">u</th></tr></thead><tbody><tr><td></td><td></td><td></td><td></td></tr><tr><td></td><td>3</td><td>6</td><td>5</td></tr><tr><td>-</td><td>1</td><td>2</td><td>7</td></tr><tr><td></td><td></td><td></td><td></td></tr></tbody></table></div><div style="text-align: center;"><table border="1"><thead><tr><th></th><th style="background-color: red;">c</th><th style="background-color: blue;">d</th><th style="background-color: green;">u</th></tr></thead><tbody><tr><td></td><td></td><td></td><td></td></tr><tr><td></td><td>5</td><td>8</td><td>3</td></tr><tr><td>-</td><td>3</td><td>1</td><td>5</td></tr><tr><td></td><td></td><td></td><td></td></tr></tbody></table></div></div>		c	d	u						3	6	5	-	1	2	7						c	d	u						5	8	3	-	3	1	5					
	c	d	u																																						
	3	6	5																																						
-	1	2	7																																						
	c	d	u																																						
	5	8	3																																						
-	3	1	5																																						