

Evaluación del 3er Trimestre				Calificación	x
DIBUJO TÉCNICO Y ARTÍSTICO				Cuantitativa	
Nombre del estudiante:					
Docente:					
Fecha / hora:					
Curso:	3BGU	Paralelo:		Calificación	x
Sección:	Vespertina	Año lectivo:	2023 – 2024	Cualitativa	
“Mira que temando que te esfuerces y seas valiente; no temas ni desmayes, porque Jehová tu Dios estará contigo en donde quiera que vayas.” Josué 1:9					

I. Instrucciones generales

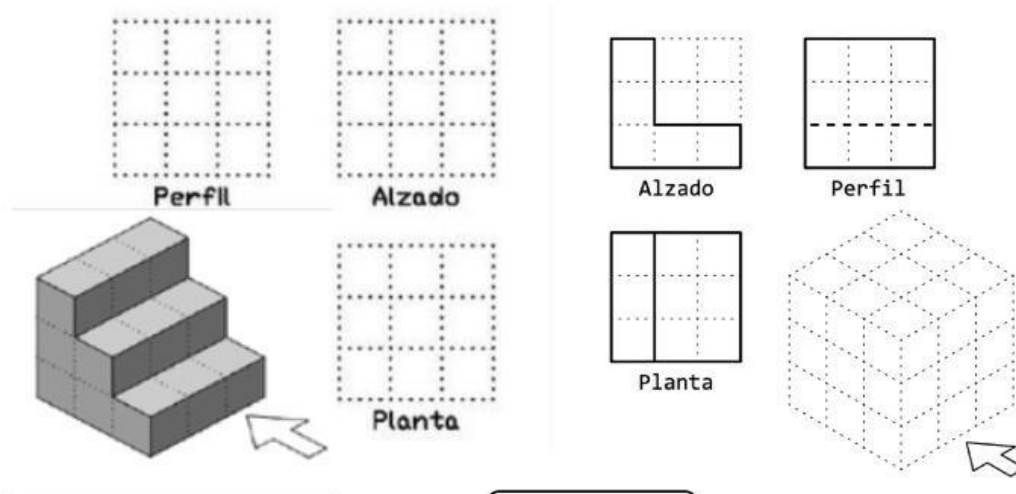
- Completar los datos informativos correctamente.
- Leer detenidamente cada pregunta y responder **con esferográfico color azul**.
- No se aceptan, borrones, tachones, corrector.
- Asegúrese de que sus respuestas tengan letra clara y legible para su correcta calificación.
- El examen consta de 5 preguntas con un valor de 2 puntos y 1 punto respectivamente total 10 puntos.
- El examen tiene una duración de 40 minutos
- Cualquier intento de copia se le retira el examen con calificación 2.

II. Destrezas con criterio de desempeño

- Dibujar figuras en 3D, por medio del sistema isométrico.
- Identificar y diferenciar las vistas de un dibujo en 3D.
- Dibujar con guía de vistas.
- Conocer y escribir acotaciones de diferentes figuras

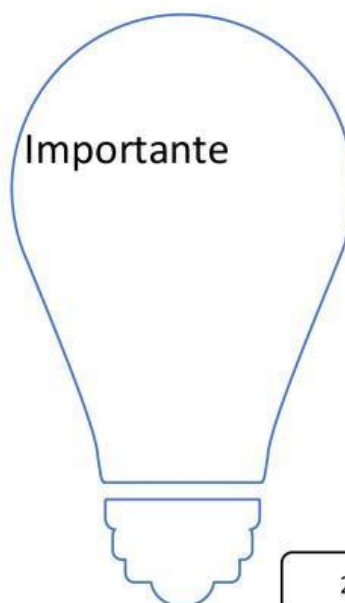
III. Desarrollo

1. Dibuje las respectivas vistas de la siguiente figura.



4 puntos

2. Elabore una lista de todos los instrumentos que se necesitan en dibujo técnico y cual es el más importante.



2 puntos

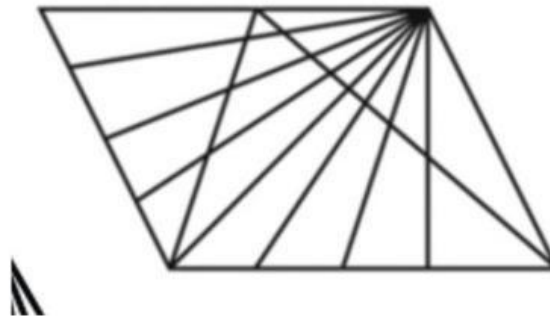
- 3. Escriba la importancia del dibujo y para que le ayudará en un futuro.

1 punto

4. Realice el siguiente ejercicio.

Conteo de triángulos:

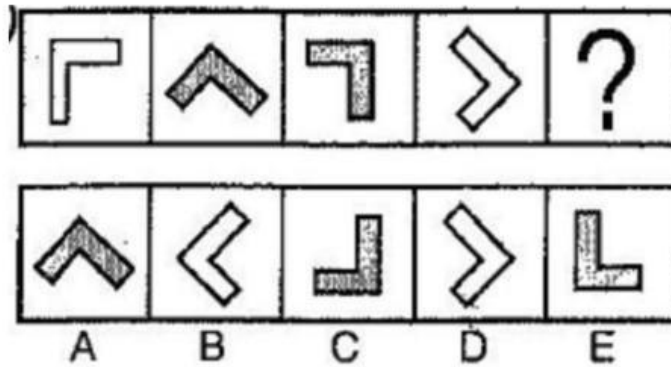
- A) 56
- B) 37
- C) 78
- D) ninguna de las anteriores



Si conoce el total de triángulos escríbalo: _____

2 puntos

5. Encierra la respuesta correcta a la siguiente sucesión.



1 punto

<p>Elaborado por: Lucía Rodríguez I. Docente de DIBUJO TÉCNICO.</p>	<p>Revisado y aprobado por: Jhon Godoy Vicerrector UEGF</p>	<p>Firma estudiante:</p>
--	--	---------------------------------