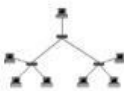

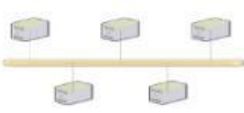



<b>3. Enlaza con la respuesta correcta</b>		<b>2,0 ptos.</b>
	<b>Topología anillo</b>	
	<b>Topología árbol</b>	
	<b>Topología Estrella</b>	
	<b>Topología en Bus</b>	
<b>4. Analice y complete sobre las topologías de red</b>  bus _____  _____		<b>2,0 ptos.</b>
<b>5. Selecciona la respuesta correcta. Sobre los medios de transmisión</b>  a. Par trenzado, fibra óptica y coaxial b. Par trenzado, fibra óptica y DSL c. Par trenzado, cable de red y coaxial d. Ninguna de las anteriores  Respuesta Correcta: -----		<b>2,0 ptos.</b>
<hr/> <b>DOCENTE</b> Iliana Elizabeth Ulloa Tello		<hr/> <b>VICERRECTOR</b> MGS. Servio Ramírez