

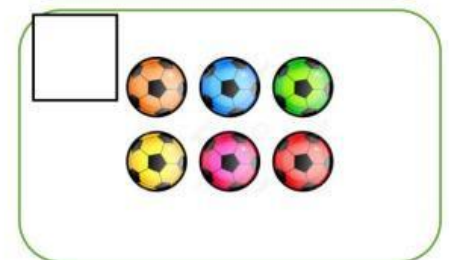
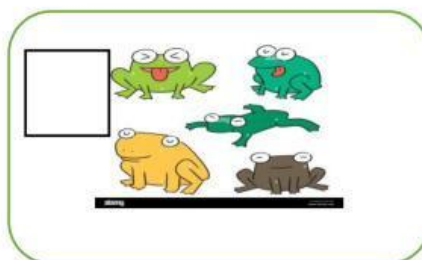
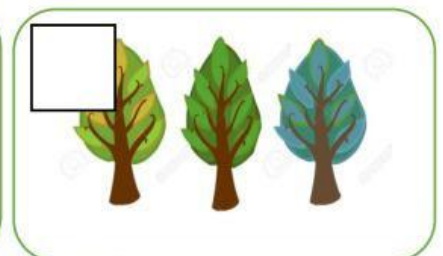




UNIDAD EDUCATIVA " ATENAS DEL ECUADOR"

Actividades de repaso de números del 1 al 9

Cuenta los elementos de cada conjunto y escribe el número correspondiente




Ordena los números de 1 al 9

--	--	--	--	--	--	--	--	--







1	3	6	4	2	8	7	9
---	---	---	---	---	---	---	---

Ordena con una línea los números siguiendo la secuencia del 1-9









Subraya el recuadro que nos indica cuántos elementos hay en cada conjunto


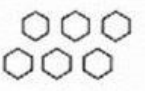



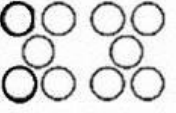

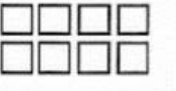


**CORPLI**

		
<u>2</u> 4	4 <u>1</u>	3 <u>2</u>
		
<u>1</u> 4	3 <u>2</u>	2 <u>3</u>

**CORPLIDERS**

	
<u>6</u> 7	5 <u>7</u>
	
7 <u>6</u>	<u>6</u> 5
	
<u>4</u> 6	4 <u>7</u>

Unir el número y la cantidad

	• 3		• 8
	• 5		• 9
	• 4		• 7
	• 1		• 6
	• 2		• 10