

Nombre _____ Fecha _____

NOTA:

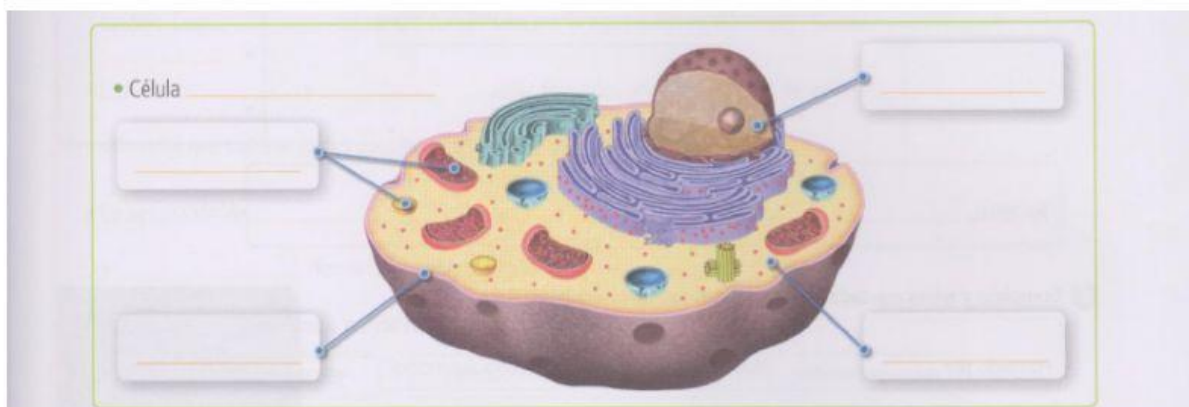
1- ¿Qué aparatos son los encargados de realizar las siguientes funciones?

- Digestión: _____
- Respiración: _____
- Excreción: _____
- Circulación: _____

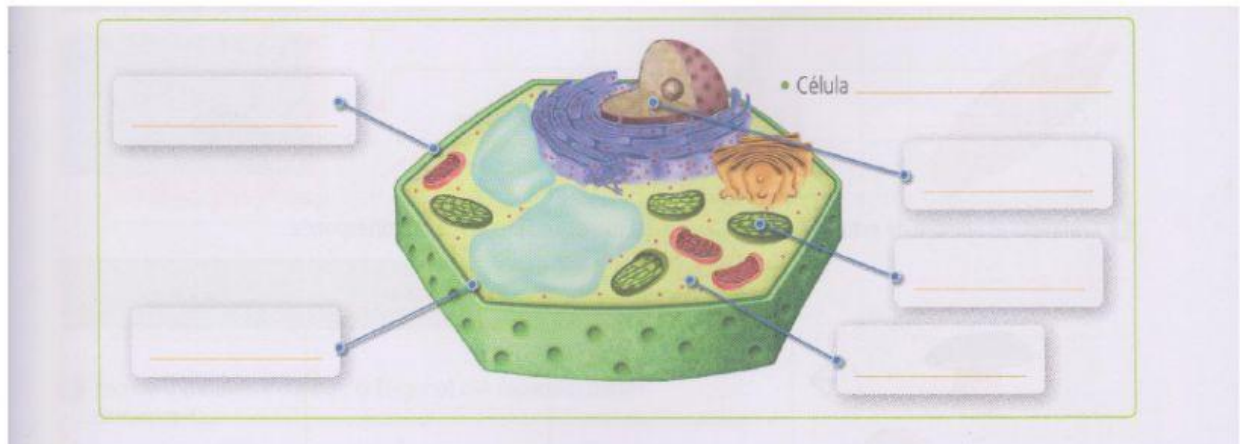
2- ¿Qué es una célula? _____

¿Cuáles son las diferencias entre la célula animal y la célula vegetal? _____

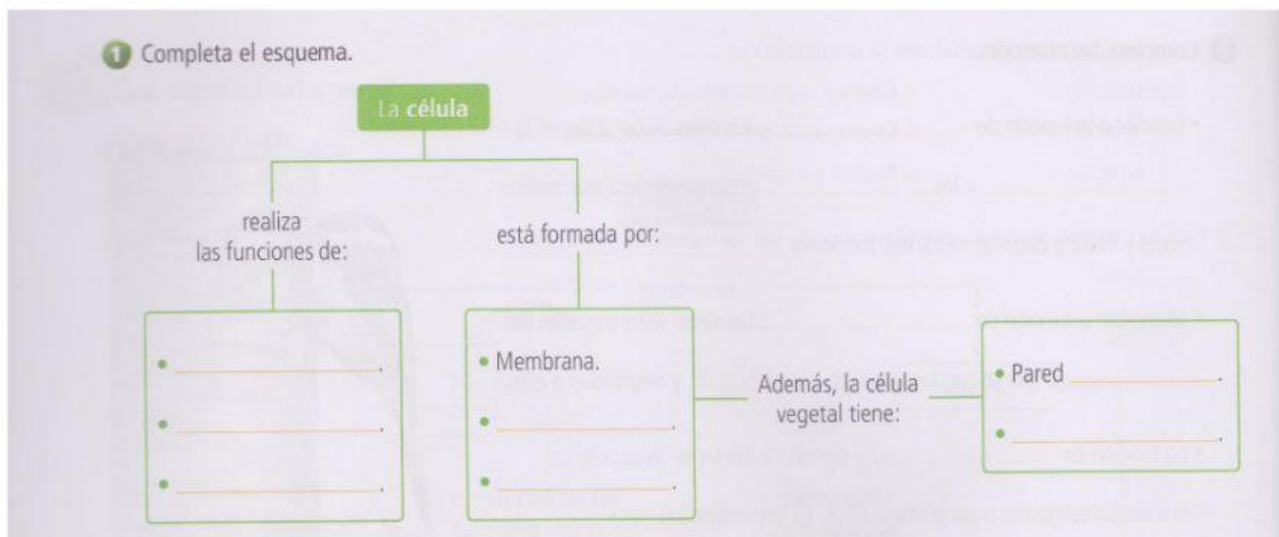
3- Escribe qué célula es y pon las partes que se indican:



4- Escribe qué célula es y pon las partes que se indican:



5- Completa el esquema



6- Une con flechas cada función vital con su característica

Reproducción ●

• Obtener materia y energía para vivir

Nutrición ●

• Crear nuevas células parecidas a ella

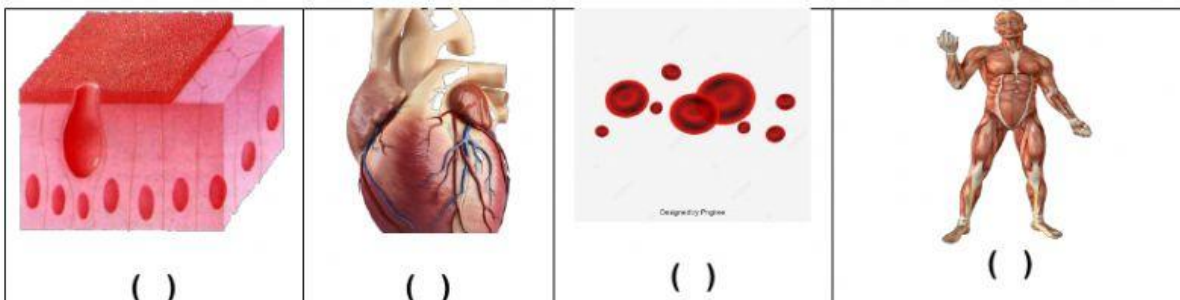
Relación ●

• Percibir los cambios que ocurren a su alrededor

7- Escribe (V) si es verdadero o (F) si es falso:

- Los órganos son la unión de varias células. ()
- Las células son las unidades vivas más pequeñas que forman los seres vivos. ()
- Los tejidos están formados por varios órganos ()
- Los sistemas o aparatos son conjunto de órganos diferentes que trabajan conjuntamente para realizar una misma función. ()
- La principal función del Aparato Respiratorio es transportar la sangre por todo el cuerpo. ()
- El aparato reproductor femenino produce óvulos y el masculino espermatozoides ()
- El aparato excretor se encarga de eliminar los productos de desechos a través de la orina y del sudor. ()
- El aparato circulatorio capta el oxígeno del aire. ()

8- Escribe C (célula), T (tejido) , O (órgano) y S (sistema o aparato) , donde corresponda:



9- Según el número de células los seres vivos pueden ser...

_____ y _____

Pon un ejemplo de cada uno:

- _____
- _____

10- ¿Qué es lo que le da el color verde a las plantas? _____
