





1. **Ordena** el ciclo de vida de una planta

			
NACE	CRECE	SE REPRODUCE	MUERE

Identifica las etapas del ciclo de vida de la planta.

1 pto. c/u

2. ¿Son estos animales **vivíparos** u **ovíparos**?

vivíparos

ovíparos

vivíparos

ovíparos



3. **Selecciona los cambios** que la mariposa presenta en su ciclo de vida.



Identifica los cambios en el ciclo vital de los animales.

1 pto. c/u