

LKPD

Lembaran Kerja Peserta Didik

Pertemuan I



MATA PELAJARAN : INFORMATIKA
ELEMEN SISTEM KOMPUTER

IDENTITAS

Satuan pendidikan : SMA Negeri 1 Aesesa
Kelas / Semester : X / Genap
Mata Pelajaran : Informatika
Hari / Tanggal :
Materi : Interaksi antara perangkat keras, perangkat lunak, dan pengguna serta cara kerja komputer dari masing-masing komponen-komponen
Nama Kelompok :
Anggota kelompok :
1.
2. .
3. .
4. .
5. .

PETUNJUK MENGERJAKAN

1. Baca dan pahami LKPD berikut dengan seksama !
2. Ikuti setiap langkah-langkah yang ada di LKPD ini !
3. Diskusikanlah dengan teman kelompokmu hasil identifikasi soal !
4. Menentukan dan merangkum hasil identifikasi soal !
5. Membuat laporan hasil identifikasi soal !
6. Mempresentasikan hasil diskusi kelompok !
7. Jika masih ada yang belum dipahami, silahkan tanya kepada guru !

BAHAN AJAR

Bahan ajar dapat diakses melalui link : https://bit.ly/Bahan_ajar99

Atau dapat scan barcode di samping!



VIDEO PEMBELAJARAN

Simak dengan baik tayangan video pembelajaran dari youtube berikut ini :

1. Video ke-1.



Link Video : <https://bit.ly/VideoPembelajaranpart1>

Barcode QR



2. Video ke-2.



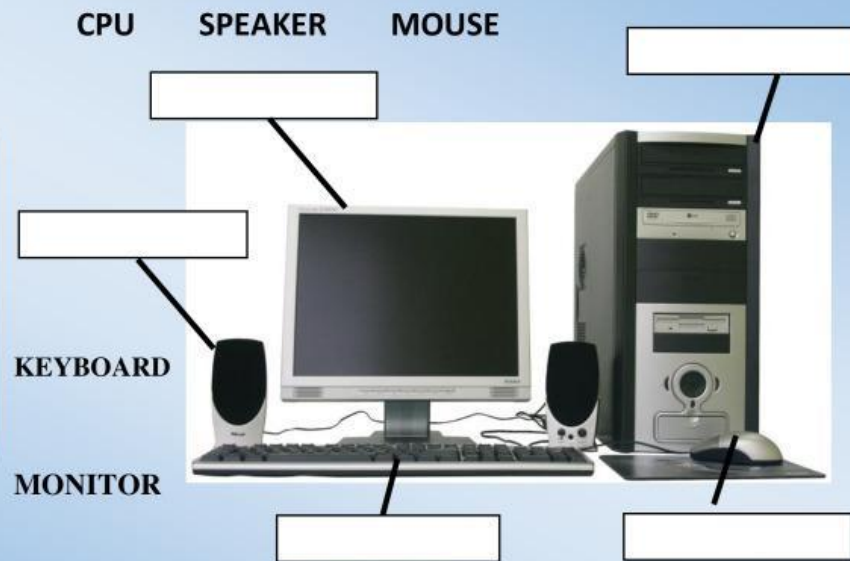
Link Video : <https://bit.ly/VideoPembelajaranpart2>

Barcode QR









AKTIVITAS 1

Tarik nama dari bagian-bagian perangkat keras (hardware) disamping dan letakan pada kotak yang sesuai.



AKTIVITAS 2

Dari tabel dibawah ini, kelompokkan gambar berikut termasuk kedalam kategori peralatan input, output ataupun proses !

Gambar	Input	Proses	Output	Secondary Storage
				
				
				
				
				
				



AKTIVITAS 3

Tuliskan 5 bentuk interaksi antara pengguna dengan komputer, dengan menjodohkan gambar pada teks yang sesuai!



Character User Interface

Natural Language

Mobile User Interface

Graphical User Interface

Menu Driven

AKTIVITAS 4

Lakukan analisa pada gambar perangkat keras dibawah ini !

Merupakan unit bagian perangkat keras

Sertakan

Fungsinya :



Merupakan unit bagian perangkat keras

Sertakan

Fungsinya :



AKTIVITAS 5

Bagaimana jika sebuah layar monitornya tiba-tiba gelap/geblank pada saat digunakan.



Apa yang akan dilakukan oleh anda setelah belajar mengetahui fungsi perangkat keras komputer.
Silahkan diskusikan dalam kelompok

AKTIVITAS 6

Temukan 5 kata yang berhubungan dengan sistem komputer pada tabel huruf tersebut.

A	B	S	D	R	Y	K	H	V	S
W	N	X	O	K	O	A	R	A	M
P	B	M	U	F	R	S	A	R	N
D	I	C	L	D	T	I	K	O	V
C	E	L	W	I	N	W	O	N	G
O	G	A	I	L	F	S	A	H	A
D	R	P	R	O	S	E	S	R	I
E	B	S	R	I	N	T	W	S	E
L	E	J	O	U	T	P	U	T	Y
K	R	I	P	T	O	G	A	W	E
S	O	L	N	I	C	P	U	N	S
O	J	O	L	P	W	A	T	M	L
M	K	O	M	P	U	T	E	R	I
E	N	D	I	V	L	T	Y	I	R