



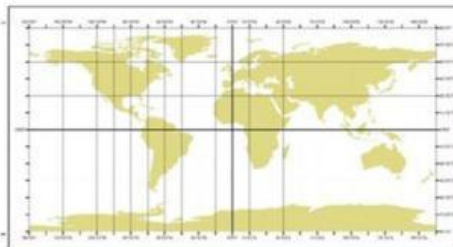
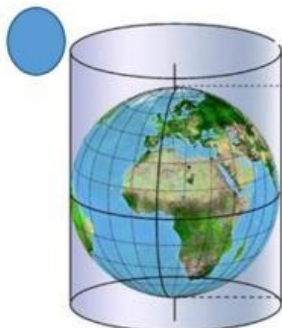
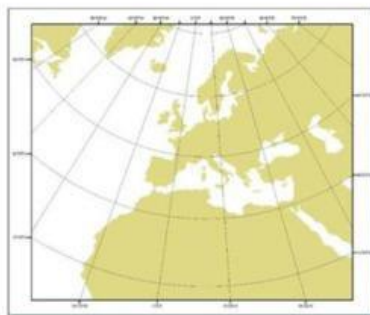

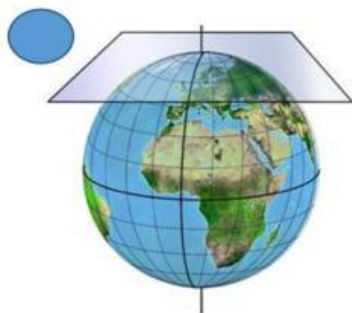
**COLEGIO BACHILLERATO ZUMBI**  
**Año lectivo 2023-2024**

**Nombre:** ..... **Curso:** .....

**1. Cartografía es:**

- a. Es la ciencia que estudia los hechos y fenómenos físicos, biológicos y humanos de la superficie terrestre.
- b. Es la disciplina dedicada a la representación de la superficie de la Tierra mediante mapas o planos.
- c. Es la ciencia que determina las dimensiones y el contorno (características tridimensionales) de la superficie de la tierra a través de la medición de distancias, direcciones y elevaciones.

**2. Observe las siguientes imágenes y señale con una X ¿cuál de ellas representa a la proyección cónica?**



**3. Relaciona las dos columnas. Pon la letra que aparece en el concepto al lado de su correspondiente definición:**



A) Teledetección

( ) Es un programa informático que consiste en una base de datos geográficos que pueden relacionarse entre sí.

B) Sistema de posicionamiento

( ) Pueden tomar los datos obtenidos por teledetección o sistemas de posicionamiento y procesarlos en un computador para conseguir mapas de gran precisión.

C) Cartografía informatizada

( ) Técnica que, a partir de los datos de varios satélites, permite determinar la posición de un objeto.

D) Sistema de información geográfica

( ) Es la técnica que permite obtener información sobre la superficie de la Tierra y sobre otros astros.

4. Encuentra las siguientes palabras en la sopa de letras sobre tipos de mapas: político- climático- geográfico- turístico- carreteras- histórico

N	G	T	U	R	I	S	T	I	C	O	S
S	C	E	W	N	H	M	Q	H	B	M	W
A	C	N	O	I	J	W	N	C	A	P	E
R	C	L	F	G	R	W	Y	M	E	O	G
E	N	N	I	P	R	G	E	P	J	L	C
T	O	E	J	M	X	A	K	L	J	I	B
E	N	J	H	H	A	I	F	B	O	T	Q
R	Q	C	M	C	M	T	P	I	B	I	R
R	S	A	K	O	D	K	I	A	C	C	G
A	M	Y	B	F	N	R	T	C	R	O	R
C	P	P	V	I	J	I	M	W	O	L	E
S	O	C	I	R	O	T	S	I	H	F	O

5. Escriba debajo de cada imagen ¿qué tipo de mapa corresponde a gran escala o pequeña escala?



6. Señale la respuesta correcta:

- El siguiente mapa corresponde a:



- Mapa general
- Mapa topográfico
- Mapa temático