

LATIHAN SOAL

1. Perhatikan gambar di bawah ini!

Adit memerlukan 5 botol sabun B untuk mengisi penuh botol A. Volume botol A yaitu


- a. Kurang dari 5 volume botol B
- b. Lebih dari 5 volume botol B
- c. Sama dengan 5 volume botol B
- d. Tidak bisa ditentukan



2. 120.000 ml = l

- a. 12
- b. 120
- c. 1.200
- d. 12.000

3. Perhatikan gambar berikut ini!



Jumlah volume ketiga susu diatas yaitu ... ml

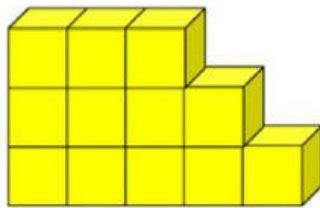
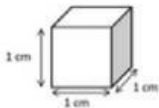
- a. 1.375
- b. 1.400
- c. 1.425
- d. 1.450

LATIHAN SOAL

4. Jika sebuah wadah memiliki volume 750 ml, berapa liter volume wadah tersebut?

- a. 0.75 liter
- b. 7.500 liter
- c. 75 liter
- d. 7.5 liter

5. Perhatikanlah gambar berikut ini!



Volume bangun di atas yang berwarna kuning yaitu ...

- a. 10 cm³
- b. 12 cm³
- c. 14 cm³
- d. 16 cm³

6. Segala sesuatu punya massa dan menempati ruang disebut ...

- a. Materi
- b. Ruang
- c. Massa
- d. Benda

7. Manusia hewan dan tumbuhan adalah contoh materi ...

- a. makhluk hidup
- b. tak bermassa
- c. tak hidup
- d. tak bervolume

LATIHAN SOAL

8. Di bawah ini adalah wujud materi, kecuali ...

- a. padat
- b. cair
- c. gas
- d. panas

9. Di bawah ini ciri-ciri materi, kecuali ...

- a. memiliki massa
- b. menempati ruang
- c. memiliki volume
- d. memiliki rasa

10. Ciri-ciri materi salah satunya memiliki volume. Yang dimaksud dengan volume adalah

- a. besaran suatu benda
- b. wujud suatu benda
- c. ukuran banyaknya jumlah zat
- d. derajat suatu benda

11. Warna biru termasuk contoh warna

- a. tersier
- b. primer
- c. sekunder
- d. campuran

12. Perhatikan gambar berikut



Gambar tersebut merupakan contoh bidang bentuk ...

- a. segi enam
- b. trapesium
- c. segi lima
- d. persegi

LATIHAN SOAL

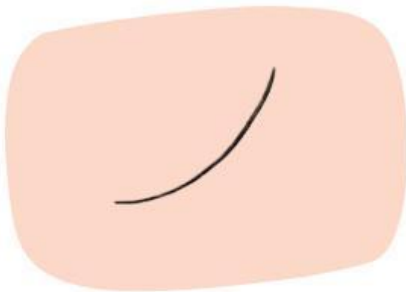
13. Titik disebut juga dengan ...

- a. bintik
- b. coretan
- c. garis
- d. lengkungan

14. Warna yang di dapat dari campuran satu warna primer dan satu warna sekunder disebut warna ...

- a. sekunder
- b. tersier
- c. campuran
- d. primer

15. Perhatikan gambar berikut!



Garis pada gambar diatas termasuk garis ...

- a. lurus
- b. diagonal
- c. vertikal
- d. lengkung