


SECUENCIAS MULTIPLICATIVAS

NOMBRE: _____

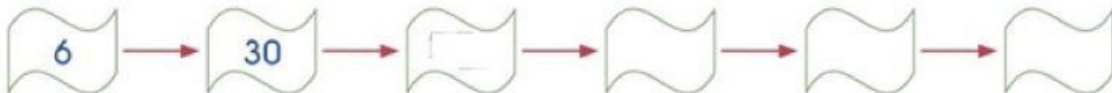
SEXTO A

Descubre la regla de formación y completa las secuencias numéricas.

a) Regla: _____



b) Regla: _____



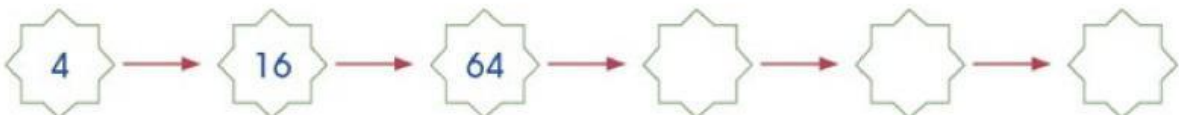
c) Regla: _____



d) Regla: _____



e) Regla: _____



Regla: _____



Regla: _____