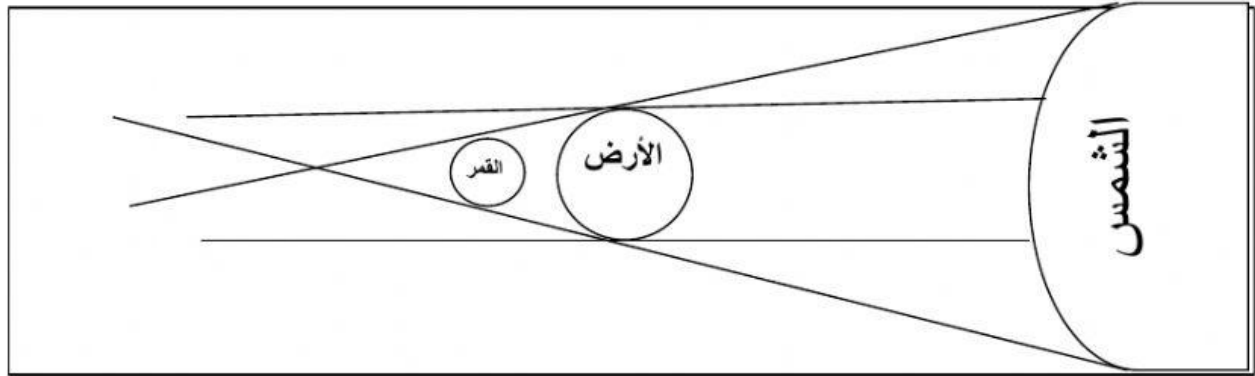


أسحب الإجابة الصحيحة وضعها في مكانها المناسب:

القدر

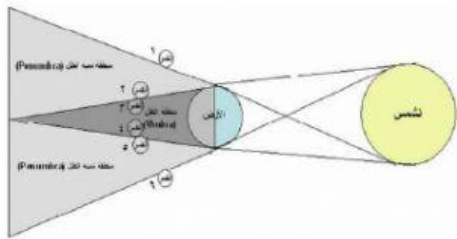
خسوف القمر

الأرض

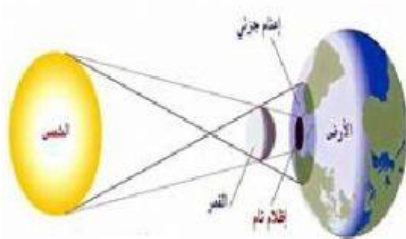


- 1- اسم الظاهرة في الشكل السابق ----- .
- 2- يُشترط لحدوث هذه الظاهرة أن يكون في المنتصف ----- .
- 3- يكون القمر في هذه الظاهرة في طور ----- .

صل الإجابة الصحيحة بالصورة المناسبة



خسوف القمر



كسوف الشمس