







NOMBRE:

CURSO:

1. Une con cada flecha cada fenómeno atmosférico con su imagen.

	GRANIZO	
	HURACÁN	
	SOLEADO	
	ARCO IRIS	
	NIEVE	
	LLUVIA	
	NUBES	
	TORMENTA	

2. Elige la respuesta correcta:

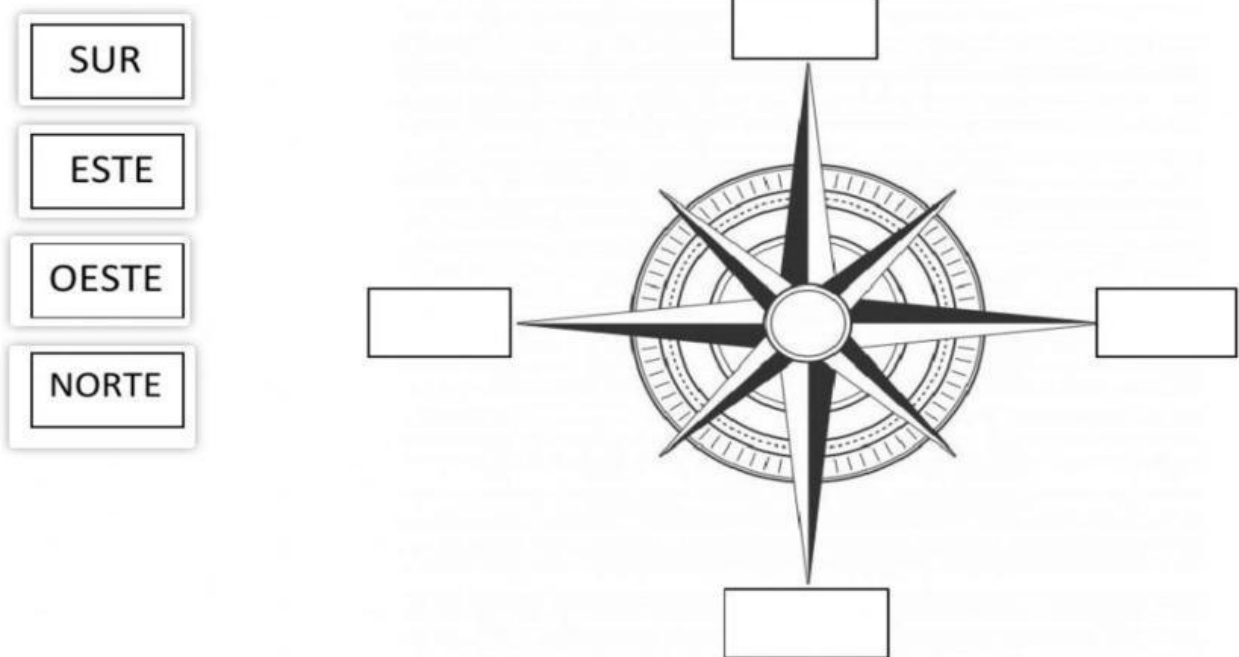
- La Tierra está formada por una capa de aire que se llama **ATMÓSFERA / PLANETA**.
- El sol sale por el **OESTE / ESTE** y se pone por el **OESTE / ESTE**.

NOMBRE:

CURSO:

- El **OXÍGENO / HIELO** es necesario para que los seres vivos podamos respirar.
- El aire de la atmósfera está formado por varios **AMIGOS / GASES**.

3. Coloca los puntos cardinales en su lugar correspondiente.



4. Lee y une cada acción con el elemento natural que contamina.



Contaminación del aire



Contaminación del agua



Contaminación del suelo



NOMBRE:

CURSO:

5. Relaciona cada elemento con el contenedor de reciclaje correspondiente.

