



CABANG DINAS PENDIDIKAN IX PROVINSI JAWA BARAT
SMA NEGERI 1 TALAGA

Jl. Ganeas No.05 Desa Ganeas Kec. Talaga Kab. Majalengka
Website: sman1talaga.sch.id Email: mail@sman1talaga.sch.id











NAMA :

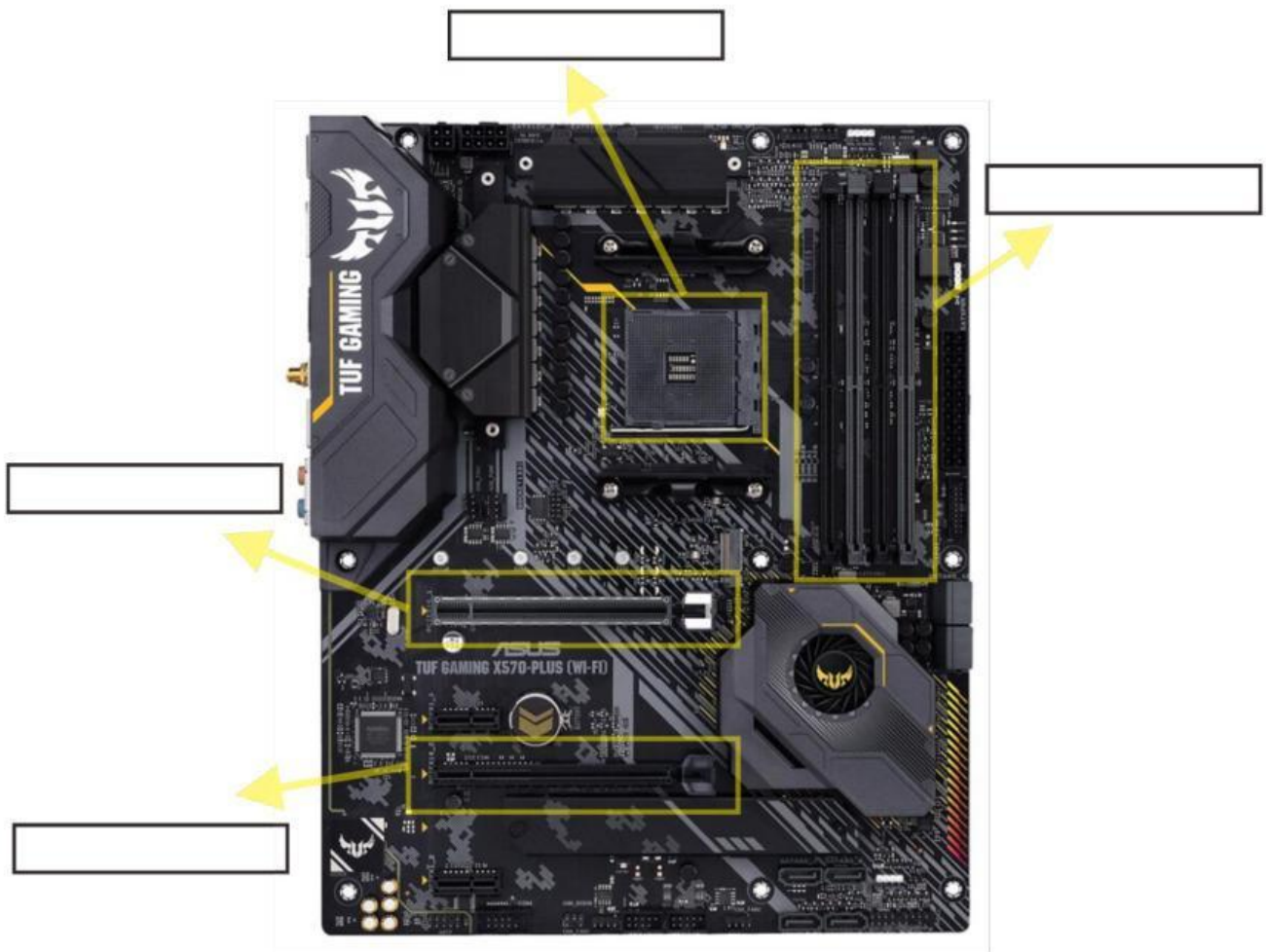
KELAS :

1. Letakan nama perangkat sesuai dengan gambar

HARDISK	RAM	HEADSET	MOUSE
VGA	MONITOR	CPU	KEYBOARD

2. Berilah keterangan kolom isian dibawah sesuai dengan untuk menyimpan apa socket/slot yang ditandai di motherboard! Isilah dengan huruf kapital



3. Hubungkan dengan tanda panah antara bagian dari komputer dan tugas yang dilakukannya ditunjukkan

CPU	<input type="checkbox"/>	<input type="checkbox"/>	Input
Harddisk	<input type="checkbox"/>	<input type="checkbox"/>	Output
Keyboard	<input type="checkbox"/>	<input type="checkbox"/>	Storage
Printer	<input type="checkbox"/>	<input type="checkbox"/>	Process

4. Yang termasuk perangkat input diantaranya adalah

- | | |
|-----------------------------------|----------------------------------|
| <input type="checkbox"/> Harddisk | <input type="checkbox"/> Speaker |
| <input type="checkbox"/> Keyboard | <input type="checkbox"/> Printer |
| <input type="checkbox"/> Mic | <input type="checkbox"/> Scanner |
| <input type="checkbox"/> Mouse | <input type="checkbox"/> Webcam |

5. Simak Video dibawah ini dan berikan penjelasan tentang isi dari video tersebut

